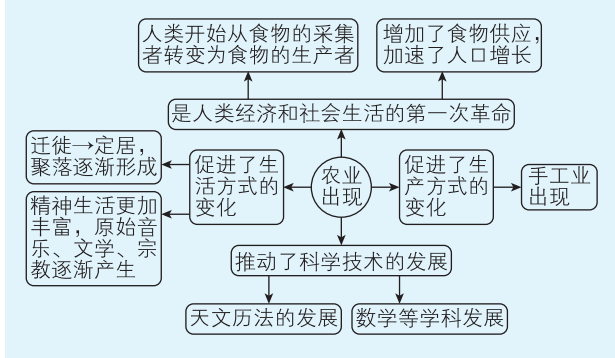


1. B 【命题点】中华文明起源特征

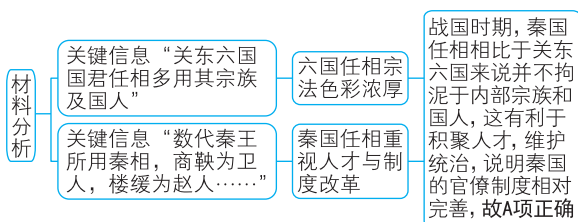
【解析】**B 项正确**：根据材料“城址内外发掘出大片房屋建筑遗迹，多座陶窑，以及中国迄今已知最早的祭坛和古稻田”可看出原始农业文明的成就，再结合这一遗址的年代及所处的地理位置可知，材料说明了长江流域是中华文明的重要源头。**A 项概念混淆**：城市是人类文明出现的标志性要素之一，但不是“最早”，城市是伴随农业文明发展而兴起的。**C 项表述绝对**：材料反映了新石器时代农业文明的发展，但是不能证明古城先民已经摆脱了对渔猎采集的依赖。**D 项史料解读错误**：阶级社会是伴随私有制和阶级差别的出现而出现的，材料仅说明新石器时代原始农业的发展，不能说明出现私有制和阶级。

刷有所得·归纳 农业出现的革命性意义



2. A 【命题点】秦国的官僚政治

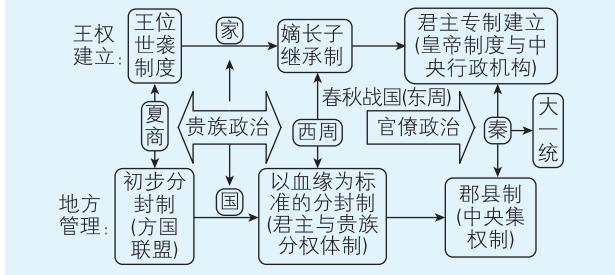
【破题关键】



【解析】材料中数代秦王所用秦相来自不同的诸侯国，不能说明秦国用人政策不断改变，排除 B 项；材料“关东六国国君任相多用其宗族及国人”说明六国任相宗法色彩浓厚，但不能说明其严格遵行宗法制，宗法制以血缘亲疏为标准解

【提示】春秋战国时期，宗法制走向瓦解，物质财富与政治权力的分配问题，材料中“多用其宗族及国人”说明六国在任相制度中已经有冲击宗法制的因素渗入，排除 C 项；材料并未涉及法家人物在六国的地位，排除 D 项。

刷有所得·拓展 从贵族政治到官僚政治



3. B 【命题点】南北朝时期的民族文化认同

【解析】B项正确：根据材料中南北朝后期，南北方政权挑选使节必求“容止可观，文学优赡者”可知，双方崇尚汉文化；根据材料“北朝使节皆为汉族高门人物”并结合所学北魏孝文帝改革可知，北朝重视汉族文化，因此这些现象说明南北政权的文化认同趋近。A项审题不清：材料反映的是南北政权互派使节的要求和北朝使节的来源，而非南北政权的实力对比。C项概念混淆：材料反映的是南北政权在使节挑选上的共性，不是强调南北政权的关系。D项史料误读：材料只是说明“北朝使节皆为汉族高门人物”，无法反映汉族高门控制南北政权。

4. C 【命题点】宋代的监察制度发展特点——台谏合一

【解析】根据材料中宋代规定御史和谏官不得“相率请对”，说明宋代御史的监察权和谏官的谏议职能出现混通现象，呈现出台谏合一的趋势，故选C项；材料主旨不是对皇帝家事的过

【提示】是宋朝监察权和谏议权发展的重要特点

问，排除A项；材料中宋仁宗最终遣宰相告知废后理由，并将孔道辅等贬黜，说明皇帝的权威并未降低，排除B项；宋代的宰相对皇帝有一定的制约作用，并未沦为君主专制的工具，排除D项。

5. D 【命题点】宋明理学的内容和影响

【解析】根据材料信息可知，明朝初期，朝鲜和日本派遣使臣向明王朝请赐，再结合明朝赐予两国的经籍名称可知，这些经籍都体现了儒家思想，联系所学，南宋后程朱理学受到官方尊崇，说明当时朝鲜和日本通过请赐，试图借助明王朝强化其政府的权威地位，故选D项；材料反映朝日两国向明朝请赐以强化政权权威以及明朝赐书的内容，并未说明儒家学说有何新发展，排除A项；材料未涉及书籍的外流通道是否畅通的信息，排除B项；材料中朝日两国向明王朝请赐主要是为了强化政权权威，不是吸收中国的先进思想，排除C项。

6. C 【命题点】近代中国对国际公法的认识

【解析】材料中薛福成对强盛之国和衰弱之国在国际公法实行中的地位论述，说明随着对外交往的加深，薛福成对增强国力以提高在国际上的地位有了更加清醒的认识，故选C项；公法在外交实践中发挥着一定作用，并不是形同虚设，排除A项；材料中体现了薛福成对增强国力的愿望，而不是要求摆脱公法束缚，排除B项；材料仅说明国力强弱影响国家在国际公法中的地位，不是对西方的高度推崇，排除D项。

史料解读

史料：“强盛之国，事事欲轶（超越）乎公法，而人或勉以公法绳之”；“衰弱之国，事事求合乎公法，而人未必以公法待之”。

解读：薛福成认为强盛之国和衰弱之国在国际公法的实行方面，受到不同的待遇，国际公法实质上在维护强盛国家的利益，说明万国公法的遭违受国家强弱的影响。

7. A 【命题点】《辛丑条约》的影响

【解析】八国联军侵华，攻占北京城，对北京进行科举考试的贡院造成了破坏，且根据《辛丑条约》的规定，华北地区五年

内禁止科举考试,所以出现了材料中的科考现象,故**选 A 项**;材料中科举考试现象的出现主要是因为战争及《辛丑条约》的规定,不是清政府面临严重的财政危机,排除**B 项**;清末新政是清政府进行的自救运动,与材料中现象的出现无直接关系,排除**C 项**;新式学堂的广泛建立冲击了传统的科举制,但不是不同地区科举考试合并进行的原因,排除**D 项**。

8. D 【命题点】中共的土地政策

【解析】抗战时期,中共在敌后抗日革命根据地提出了“双减双交”的土地政策,结合材料中根据贫农、中农、富农和经营地主家庭收入的不同水平对其进行不同比率的税收征收情况来看,各阶层的税收分配是比较合理的,故**选 D 项**;1950年,《中华人民共和国土地改革法》颁布,废除了封建剥削的土地制度,排除**A 项**;贫农、中农、富农都属于农民阶级,从材料数据可看出,农民阶级特别是富农的税收压力还是比较大的,其家庭收入的 29.65%需要交税,且材料缺少对比信息,看不出“大大减轻”,排除**B 项**;材料仅涉及抗战时期冀中根据地的税收改革,不能说明这是个人所得税制的最早尝试,排除**C 项**。

9. D 【命题点】新中国初期的经济形势

【解析】

1949年民族资本主义的工业产值
占中国工业总产值比重表

产品	原煤	烧碱	电动机	棉纱	棉布	纸	火柴	卷烟	面粉
比重	28.3%	59.4%	79.6%	46.7%	40.3%	63.4%	80.6%	80.4%	79.4%

1949年民族资本主义的工业产值占据了
中国工业总产值的很大部分,这表明当时
民族资本主义工业极大地影响着中国社
会的多个方面,对待民族资本主义不能
一刀切,需要采取限制并利的态度,故
D项正确

新民主主义经济政策实施的时间是 1949—1956 年,当时尚看不出实施效果如何,排除**A 项**;1949 年私营经济是占主体地位的,1956 年社会主义的基本经济制度才全面建立起来,排除**B 项**;1949 年最迫切的任务是恢复国民经济,对民族资本主义工商业的改造是从 1953 年开始的,排除**C 项**。

刷有所得·归纳 新民主主义经济政策

新民主主义经济是中国进入社会主义社会以前,以社会主义性质的国营经济为领导的,由国营经济、合作社经济、个体经济和资本主义经济等多种经济成分组成的过渡性经济。其主要经济政策是:第一,没收官僚资本的大银行、大工业、大商业归新民主主义国家所有;第二,没收封建地主阶级的土地,分配给无地和少地的农民,实行“耕者有其田”,发展各种具有社会主义因素的合作社经济;第三,保护民族工商业,对民族资产阶级采取又团结又斗争的政策。

10. C 【命题点】农村经济体制改革

【解析】根据题干时间信息“20 世纪 80 年代初”可知,当时处于改革开放初期,新华社作为权威媒体拍摄了安徽凤阳小岗村带头人在村里第一个买了拖拉机的照片,传递着这样的信

息:国家认可农村的改革,故**选 C 项**;农村的经济体制改革变革的是土地的经营权,并未改变土地的所有权,排除**A 项**;材料只是体现村民买了村里的第一台拖拉机,当时尚未基本实现农业机械化,排除**B 项**;小康社会的概念提出于 1979 年,“20 世纪 80 年代初”小康社会并未建成,排除**D 项**。

易错警示 本题易错选 A 项。错选原因在于考生容易误认为改革开放中的农村经济体制改革,改变了土地所有权,实际上变革的是土地的经营权。

11.D 【命题点】古罗马的政治

【解析】根据题干时间信息“公元前 27 年”可知,当时罗马进

【提示】公元前 27 年,元老院授予盖乌斯·屋大维“奥古斯都”称号,古罗马文明由此进入帝国时代

入帝国时代,但是帝国皇帝屋大维仍然延续了共和时代的政治传统,组织元首顾问议事会谈论重大事项,故**选 D 项**;根据材料中的时间可知,罗马是从共和时代进入帝国时代,是从寡头民主走向元首集权,排除**A 项**;元首顾问议事会是由皇帝屋大维组织的,这一机构的设立并不能颠覆寡头政治,排除**B 项**;屋大维作为帝国皇帝,权力很大,这一机构也是在屋大维组织下建立的,不会削弱元首的权力,排除**C 项**。

12.B 【命题点】8 世纪日本的土地政策

【解析】B 项正确:根据题干信息可知,随着人口增多,日本政府鼓励民众开垦土地,且对于新造沟池营开垦者,不论面积多少,允许开垦者传承三代,“若逐旧沟池,给其一身”,这一奖励垦殖的做法刺激了私有土地的增长,在一定程度上动摇了自大化改新以来形成的土地公有原则。**A 项无中生有:**材料阐述的主**【关键】**当时日本的土地政策是 7 世纪日本大化改新之后的土地政策的延续

题是开垦土地,无法得出当时灌溉技术的发展状况。**C 项主旨不符:**根据材料信息无法看出天皇地位的升降。**D 项时空错位:**8 世纪中期,日本土地私有成为趋势,贵族乘机广占土地,建立庄园。

刷有所得·拓展 日本大化改新的经济政策

大化二年(646 年),孝德天皇颁布《改新之诏》,正式开始改革。其主要内容是:废除大贵族垄断政权的体制,向中国唐朝政治和经济体制学习,成立古代中央集权国家。经济方面的政策是废除贵族私有土地制度和部民制,实行公田公民制度。把贵族的土地收归国有,部民转为国家公民;国家定期把土地分给农民耕种,向他们收取赋税。

13.A 【命题点】文艺复兴

【解析】根据题干关键时间信息“16 世纪”,空间信息“意大利”,以及“我自安然如故”“无价的才华”“身的美丽,心的优雅”等可以判断,该诗人强调人的个性,重视人的价值,反映了文艺复兴时期的人文主义,故**选 A 项**;根据题干信息“命运残酷,无奈我自安然如故”可知,这并不是屈服命运,排除**B 项**;题干信息未涉及宗教教义,C 项与题干主旨无关,排除**C 项**;题干涉及的是诗人对自我命运的思考,并未体现对社会发展的认识,排除**D 项**。

14. B 【命题点】近代民族国家

【解析】B 项正确：根据题干时间信息“17 世纪后期”以及“传达有关国土疆域的信息”并结合所学可知，当时是近代民族国家发展时期，民族国家的主权意识、疆域意识增强。**A 项脱离主旨：**17 世纪欧洲国家重视疆域，这与地形勘测技术的进步无直接关联。**C 项史实不符：**谈判是解决争端的手段之一，但当时战争才是主要手段。**D 项过于夸大：**地图是解决争端的依据之一，但不是主要依据。

15. C 【命题点】英国代议制的发展

【解析】19 世纪英国自由党和保守党取代辉格党和托利党，争夺议会多数席位，胜出后获得执政地位，而党的领袖会被国王任命为首相，因此内阁首相、大臣与大多数议员属同一党派，因此内阁提出的议案大多能通过，少数以议会修正案的形式推出，**故选 C 项；**内阁并没有夺取立法权，政府议案依旧需要议会通过或修正，故不能说内阁走向集权，**排除 A 项；**结合所学可知，内阁负责行政，议会负责立法，权限分明，只不过内阁权力大于议会而已，**排除 B 项；**材料只能说明资本主义政治体制运行规则有所变化，不能说明议会体制受到损害，**排除 D 项。**

16. B 【命题点】20 世纪美国农业的科技化

【解析】根据曲线图可知，劳动力的投入整体呈下降趋势，机械在 20 世纪 80 年代前的投入整体呈上升趋势，化学品的投入整体呈上升趋势，这表明随着农业技术的发展呈现出节约劳动力的倾向，**故选 B 项；**材料所示机械的投入在 20 世纪 80 年代前整体呈上升趋势，20 世纪 80 年代后减少有可能是因为投入已经饱和，不能表明农业集约化程度降低，**排除 A 项；**C 项本身说法正确，但是材料所示主题是美国农业的投入使用量的变化，没有体现生态环境的情况，单从材料并不能得出 C 项的结论，**排除 C 项；**劳动力的减少是因为科技的大量投入，农业发展走向科技化，并不是衰落，**排除 D 项。**

17. (1) 主要问题：政府用以给授的土地严重不足；民众受田不足情况较为普遍；均田制存在不公现象，官僚和地主对土地占有绝对优势。

原因：土地买卖和兼并现象日趋严重；官僚、地主、僧侣享有诸多均田特权；社会生产力的发展，人口的增加；安史之乱的爆发。

(2) **看法：**柳宗元和白居易都希望恢复租庸调制，恢复到一个均平安宁的社会状态。

评析：两人都看到了两税法在执行过程中出现的一些问题，如按人丁、资产折钱纳户税，按田亩缴纳实物地税，这导致了钱重物轻的现象，增加了人民的负担；加重了贿赂横行、赋税制度败坏的社会状况，贫富分化加剧。

随着均田制不断遭到破坏，租庸调制最终也无法维持。两税法取代租庸调制，简化税收名目，扩大收税对象，一定程度上保证了国家的财政收入；改变了自战国以来以人丁为主的赋税制度，减轻了政府对农民的人身控制；两税法实施后，中央财政实力得到加强，起到了巩固和加强中央集权的作用；户

税纳钱,地税交实物,加速了封建社会商品经济的发展。

因此,应该全面客观看待唐代税制改革,针对实行过程中出现的问题需要探寻新的解决方案,而不应简单恢复原有制度。

【命题点】唐代的土地制度及赋税制度改革

【解析】(1)第一小问主要问题,根据材料一的表格数据可知,均田受足户数明显很少,甚至没有,说明当时民众受田不足情况较为普遍;根据材料一中“平均每户应受田亩数”和“平均每户未受田亩数”的数据可知,当时政府用以给授的土地严重不足;根据材料一中“唐代上柱国按规定受勋田 3000 亩”可知,均田制存在不公现象,官僚和地主对土地占有绝对优势。第二小问原因,结合所学知识可知,唐朝中期以后土地买卖和土地兼并现象日趋严重;根据材料一“唐代上柱国按规定受勋田 3000 亩”并结合所学可知,官僚、地主、僧侣等享有均田特权;根据材料中的均田户数总体有所增加可知,社会生产力发展,人口增加;结合所学可知,还与安史之乱造成社会生产破坏和社会秩序动荡有关。

(2)首先,依据材料二概括白居易和柳宗元对税制改革的看法。其次,围绕二人对两税法的态度进行评析。材料二“导致钱重物轻而伤农的现象”“岁岁输铜钱。钱力日已重,农力日已殫”说明两税法征收货币,导致出现了钱重物轻的现象,从而增加了人民的负担;材料二中柳宗元认为两税法“富人贿赂官吏”“贫者愈困饿……富者愈恣横侈泰……”等说明两税法导致贫富分化加剧、社会贿赂成风等,这些说明二人认识到了实行两税法的弊端。结合所学知识可知,两税法实行的背景是土地兼并严重,从而导致租庸调制无法实行,在此背景下唐代进行了赋税制度改革;从历史发展趋势看,结合两税法实行的内容可知,它顺应了历史潮流,增加了政府收入,推动了商品经济的发展等,所以应从历史发展的角度全面分析评价这一时期的赋税制度改革。

18. 示例:

一战期间列强放松了对中国的经济侵略,民族工业获得较大发展。受国外劳工运动影响,国内劳资矛盾日益尖锐。五四运动促进了马克思主义在中国的传播,“劳工神圣”思潮风起云涌。有识之士纷纷要求保障劳工的基本权利,改善劳工的经济待遇。

1920 年上海厚生纱厂招募湖南女工事件引发了知识界与资方在工作机制、薪资待遇、女工人格等方面的争议。

湖南知识界从女工的立场出发,质疑女工工作时长、工资低、入厂要家长署名加铺保、签订三年契约等现象或要求有漠视自由人权之嫌。穆藕初从资方立场出发,认为知识分子不明实业发展之艰难、中西发展水平的差距、中国工人个人素质及大多数社会阶层的生活水平,讥讽他们的要求为“不负责任之论调”。沪湘知识分子则借助“劳动主义”等学说,批评警告资本家如果固守“资本掠夺”“剥削”会引发工人运动。招工简章虽引发争议,但湖南女工仍有 64 人应聘成功,且在争议中近乎置身事外。

这次争议实质上反映了近代不同阶层对劳工问题的不同看

法:知识界受先进思想影响,争取工人阶级的利益,顺应并引领了时代潮流,但过于冒进,即忽略了当时我国的社会现实;穆藕初站在资方立场上,虽有实业救国及裨益民生的美意,但更多的是对经济利益最大化的追求;作为当事人的女工几乎“置身事外”,则是出于生存为重、温饱为先的现实考虑。

此次争议暴露了新民主主义革命初期中国的劳工问题。知识界与资方的争议及女工的最终抉择,说明要解决劳工问题首先要使劳动者得以生存,再进一步争取雇佣关系中劳动者地位的提高与待遇的改善。这对当今社会劳工问题的解决也有一定的借鉴意义。

【命题点】新民主主义革命初期中国关于劳工问题的争议

【解析】本题为评析类论述题,可按以下步骤作答。

第一步,分析背景。阅读材料,根据材料中的有效信息并结合所学知识,概括事件发生的背景有一战期间民族工业的发展、国外劳工运动发展、五四运动、马克思主义的传播等。

第二步,具体评析。根据材料可知,上海厚生纱厂招募湖南女工一事引发争议的双方是先进知识分子与以穆藕初为代表的资方,争议的内容是关于劳工问题在工作机制、薪资待遇、女工人格等方面的具体表现。然后根据材料信息并结合所学知识,分析争议双方及当事女工对待此次争议产生不同态度的原因。

第三步,总结升华。根据材料对此次争议反映的问题以及影响进行总结即可。

- 19.** (1)史料一选自《吉尔伽美什》,属于史诗类的口述史料。《吉尔伽美什》是目前所知最早的史诗,对于研究古代西亚与两河流域的历史具有较高的史料价值。其中关于葡萄酒的记载可以推断出古代西亚已经出现葡萄酒。

史料二选自《汉谟拉比法典》,属于法律文书类的文献史料。《汉谟拉比法典》是世界上现存最早的较为完整的成文法典,涉及古巴比伦王国社会生活的多个方面,对于研究古巴比伦王国时期国家对饮酒的态度与政策具有较高的史料价值,但无从知晓该处所指的酒是否与葡萄酒有关。从中可以推断出当时对于酒的保管、储存有寺庙酒窖等形式,酒类可能与祭祀神灵有关,对普通人饮酒有严格的限制与惩处规定。

史料三中的土陶罐是实物史料,但科学家对其研究分析产生的研究成果,具有一定推断性质。科学家通过对考古实物土陶罐的化学分析,发现其吸收的有机化合物与葡萄酒的有机酸组成惊人一致,这可以丰富人们对葡萄酒起源的认识,具有一定的史料价值。但因为葡萄酒的有机酸组成可能是葡萄自身发酵而成,孤证不立,所以需要结合更多的考古资料、文献史料等进行多重印证,才能得出审慎结论。从中可以推断出,在约公元前 6000~5800 年高加索地区极可能有葡萄类的植物,从而留下了葡萄酒的有机酸组成物质。

总体而言,在古代西亚较早出现了关于葡萄酒饮用的相关记载,反映出当地较早饮用葡萄酒这一历史信息,但关于葡萄酒起源地确切结论的得出,还需要更多的相关考古与文献资料的印证分析。

示例 1	<p>论题:葡萄酒传播区域范围的扩大。</p> <p>阐述:由于生产力发展水平与交通条件限制,古代各文明区域之间相互联系甚少。随着生产力的发展、交通工具的进步,文明之间的交流互动不断发展。葡萄酒在公元前 3000 年前后先后在美索不达米亚、叙利亚等地出现,后逐步向外传播,于公元前 2000 年前后传入希腊、意大利半岛,公元前 1000 年前后逐步传播到地中海西岸,公元前 2 世纪传入中国。由此可知亚非欧大陆之间的文明存在一定的经贸往来、技术传播等方面的联系与交流,促进了文明的发展。但在新航路开辟之前,世界相对隔绝与孤立,葡萄酒的区域传播相对较慢,传播范围有限。</p> <p>从 15 世纪末开始,随着新航路的开辟与早期殖民扩张,世界各地孤立发展状态被打破,世界联系日益密切,世界市场逐步形成,人类历史逐渐从分散走向整体。因此,15~16 世纪西班牙人将葡萄酒带到拉丁美洲等殖民地,18~19 世纪英国人将葡萄酒带入澳大利亚、新西兰等地区等一系列行为,推动了世界联系的加强,进一步促进了各大洲之间的经贸文化等交流发展。</p> <p>总之,生产力的发展、交通技术的进步推动世界联系日益加强,这促进了葡萄酒传播范围的扩大。</p>
示例 2	<p>论题:葡萄酒消费群体的扩大。</p> <p>阐述:在中世纪的欧洲,由于生产力水平有限,社会物质财富相对匮乏,因而葡萄酒的消费群体有限。同时,因为教会在中世纪欧洲的地位举足轻重,封建贵族具有政治、经济等方面的特权,城市兴起后市民阶层与工商业者日渐壮大,因此高级教士、贵族及城市富裕阶层成为当时葡萄酒的主要消费者。</p> <p>近代以后,随着新航路的开辟与早期殖民扩张,世界联系进一步加强。工业革命极大地推动了社会生产力的发展,促进社会物质财富的增加,工业资产阶级与工业无产阶级不断壮大,收入水平与消费水平逐渐提升,所以葡萄酒的消费群体从少数的贵族与富裕阶层逐渐扩大到社会各阶层。这促进了葡萄酒消费水平的提高与葡萄酒文化的发展传播。</p> <p>总之,随着生产力的发展与社会进步,葡萄酒的消费群体不断扩大,反映了社会生活水平的不断提高。</p>

【命题点】葡萄酒历史的相关史料及其史料价值,并做出关于葡萄酒历史的合理推断

【解析】(1)第一问探讨三则史料的史料价值,并做出合理推

断,建议从史料出处、形式与价值等方面作答,并从中合理推断葡萄酒的起源、饮用、保存等方面的信息,注意孤证不立、合理推断。

相关史料及其出处	史料价值	合理推断
史料一,《吉尔伽美什》	属于史诗类的口述史料。有关于葡萄酒的明确记载,具有较高史料价值	古代西亚已出现葡萄酒
史料二,《汉谟拉比法典》	属于法律文书类的文献史料。有关于寺庙酒窖储存等的相关规定,具有较高史料价值	古巴比伦王国时期已出现酒,法律已有对拥有酒及饮酒的相关规定
史料三,实物史料,但是在科学家的研究分析基础上进行的推断	学者对实物史料的研究分析。高加索地区出土的约公元前6000~5800年的土陶罐吸收的有机化合物和葡萄酒的有机酸组成惊人的一致,这一研究发现对研究葡萄酒的起源与传播具有一定的参考价值,可丰富人们的认识,但孤证不立,无从认定葡萄酒即起源于此时此地	在约公元前6000~5800年高加索地区极可能有葡萄类的植物

(2)第二问为开放性试题,要求提取材料信息并结合所学,围绕葡萄酒的历史提炼一个论题,并就所拟论题进行阐述。可以按照以下步骤:

第一步:提取材料信息并结合所学,解读材料二所反映的葡萄酒的历史的相关信息,并围绕葡萄酒的历史拟定研究论题。可以从葡萄酒的起源与传播、消费饮用群体、生产酿制等角度拟定。

第二步:对所拟论题进行阐述,注意史论结合、论证充分、表述清晰。

第三步:在阐述基础上,进行一定总结。