



2024 年湖北省初中学业水平考试

卷10

历史

(考试时间:60 分钟,满分:60 分)

一、选择题(共 12 题,每题 2 分,共 24 分。在每题给出的四个选项中,只有一项符合题目要求)

1. [2024 湖北中考]孔子曰:“仁者人也。”他认为应当关爱尊重他人,有同情心,还主张以爱人之心调解社会人际关系。这体现孔子的思想主张是 ()
A. 仁者爱人 B. 因材施教 C. 道之以政 D. 有教无类
2. [2024 湖北中考]张骞首次出使西域时,听说了安息(今伊朗高原和两河流域)的情况,再次出使西域时,他派副使访问了安息。随后,安息使节来到汉朝,并将鸵鸟蛋等礼物送给汉武帝。这说明张骞通西域 ()
A. 改善了国家的财政状况 B. 促进了西汉与西域相互了解
C. 加强中央对地方的控制 D. 有利于“文景之治”的出现
3. [2024 湖北中考]在隋朝的废墟上,强大的唐朝建立起来了,新王朝的统治者继承和发展了隋朝在制度方面的诸多成就。在下列选项中可以佐证这一结论的是 ()
A. 确立分封制 B. 开创中央集权制度
C. 完善科举制 D. 地方实行行省制度
4. [2024 湖北中考]与明朝鼎盛时期相比,清朝前期人口数量有了很大变化(图 1)。出现这一变化的原因是 ()

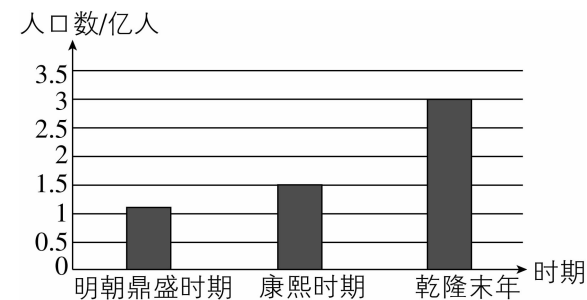


图 1 明朝鼎盛时期和清朝前期人口数量变化情况

- A. 市民文化丰富 B. 禁海令的颁布
C. 手工工场成熟 D. 社会经济发展
5. [2024 湖北中考]洋务运动时期,张之洞在武汉设立汉阳铁厂。该厂设立 10 个分厂,配置了多种炼铁及轧制铁轨的设备,雇佣工人 3 000 多名。此外,他在武汉还创办了湖北织布局、湖北自强学堂等。这对武汉产生的影响是 ()
A. 促进了海防的建设 B. 推动了近代化进程
C. 淘汰了传统的兵器 D. 延缓民用企业发展
6. [2024 湖北中考]1921 年 6 月 29 日下午 6 点,毛泽东在长沙小西

门码头,乘着暮色,登上开往上海的小火轮。他此行的目的是 ()

- A. 参加中国共产党第一次全国代表大会
B. 领导秋收起义
C. 参加八七会议
D. 创建井冈山革命根据地开展土地革命
7. [2024 湖北中考]1949 年是充满希望的一年,中国人民从此站立起来了,人民的自信心、自尊心和自豪感极大地增强了。这反映的历史事件是 ()
A. 中共七大召开 B. 新中国的成立
C. 土地改革完成 D. “双百”方针提出
8. [2024 湖北中考]图 2 是我国美术工作者 1955 年创作的宣传画,画面描绘了为完成第一个五年计划而开展劳动竞赛的场景。该画反映了 ()



图 2 开展劳动竞赛,为完成五年计划而奋斗

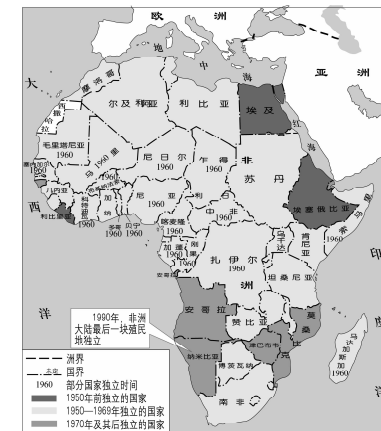
- A. 工业化目标激发的建设热情 B. 社会主义改造完成后的喜悦
C. 原子弹首次爆炸成功的自豪 D. 东方红一号发射成功的骄傲
9. [2024 湖北中考]1978 年,我国国内生产总值约为 3.5 千亿元。党的十八大以来,以习近平同志为核心的党中央,带领全国各族人民,着力推进高质量发展。到 2021 年,我国国内生产总值增长到 114 万亿元,这表明我国 ()
A. 教育事业获得突破性进展 B. 中国特色大国外交全面推进
C. 经济实力实现历史性跃升 D. 国防军队建设取得辉煌成就
10. [2024 湖北中考]据记载,古巴比伦开办了专门用于借贷的机构(类似于今天的银行),出借实物或金银货币,借贷人可以用分期付款等方式偿还。这反映了古巴比伦 ()

- A. 法学系统日臻完整 B. 君主权力衰落
C. 商品经济比较活跃 D. 国内矛盾激化

11. [2024 湖北中考]《共产党宣言》是共产主义和共产党的一篇公开宣言书,在其精神指引下,国际共产主义运动蓬勃发展,全世界无产阶级和被压迫民族的解放事业不断取得新胜利。这表明 ()

- A. 世界开始连为一个整体 B. 社会保障制度已确立
C. 欧洲三大工人运动兴起 D. 马克思主义影响深远

12. [2024 湖北中考]某同学根据《非洲独立进程图》(图 3),结合所学知识整理出学习笔记(图 4)。由此推断,该同学的学习主题是 ()



1951 年 利比亚独立
1953 年 埃及共和国成立
1960 年 非洲 17 个国家独立
(“非洲年”)
1962 年 阿尔及利亚独立
1990 年 纳米比亚独立
至此,所有非洲国家都摆脱了殖民主义的枷锁

图 3 非洲独立进程图(截至 1990 年) 图 4 某同学整理的学习笔记

- A. 资本主义制度的确立与扩展
B. 第一次世界大战和战后世界秩序
C. 经济危机和第二次世界大战
D. 世界资本主义殖民体系逐渐崩溃

二、非选择题(共 4 题,共 36 分)

13. [2024 湖北中考]【船舶与中国制造】(9 分)

材料一 战国时期,造船技术有较大进步。船的种类很多,有运输船、战船等。图 5 是战国铜壶壶身刻有的水陆攻战图案。从图中看出,那时的人们已用长桨划船。

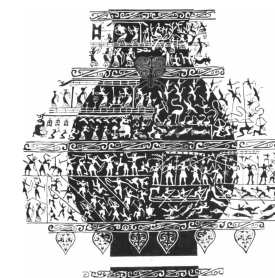


图 5 战国铜壶壶身刻有的水陆攻战图案

——摘编自杨樵《帆船史》

材料二 宋元时期,中国商船遍布东南亚和印度洋各港口。1974 年,泉州出土了一艘宋代海船。据考证,该船船体剖面呈 V 字形,航行速度快,抗风浪能力强。一位西方学者写道,如果

没有从中国引进指南针、船尾舵等导航和造船技术,哥伦布不可能远航到美洲。

——摘编自何国卫《中国木帆船》

材料三

1982—2020 年中国造船业成就一览表

年份	成就
1982 年	造船企业正式进入世界造船市场
2009 年	船舶制造业跃居世界第一
2020 年	出口船舶订单量占国际市场份额 40% 以上

根据上述材料,回答下列问题

(1)根据材料一,写出从中获取的战国时期关于船舶的历史信息。(2 分)

(2)根据材料二并结合所学,分析宋元时期造船、航海技术对中国和世界的影 响。(5 分)

(3)根据上述材料并结合所学,概述中国造船业发展的特点。(2 分)

14. [2024 湖北中考]【青年与时代】(9 分)

五四运动以来的一百多年,是中国青年一代又一代接续奋斗、凯歌前行的一百多年。是中国青年用青春之我创造青春之中国、青春之民族的一百多年。

时代	青年担当	青年表现
五四运动时期	点燃反帝反封建的爱国激情	巴黎和会上,中国遭遇严重外交失败,这激起了中国人民的愤慨。在国内,首先站出来的是爱国学生。1919 年 5 月 4 日,北京 3 000 多名学生汇集在天安门前,喊出“外争主权,内除国贼”等口号,呼吁全国工商各界一齐行动。
抗日战争时期	发出抗日救亡的最强音	中国共产党坚持全面抗战路线,取得了一系列战果,鼓舞了全国军民的信心,延安成为令人向往的革命圣地,“到延安去”成为当时一切怀抱救国理想的知识青年的共同选择。

续表

时代	青年担当	青年表现
中国特色社会主义新时代	青春心向党,建功新时代	青年最富有朝气、最富有梦想,青年兴则国家兴,青年强则国家强。青年人朝气蓬勃,是全社会最富有活力、最具有创造性的群体。

根据上述材料,回答下列问题

(1)概述五四运动中青年学生有责任与担当的行动表现。(3 分)

(2)结合所学,分析抗日战争时期知识青年“到延安去”的原因。(4 分)

(3)列举当代青年在接续奋斗、强我中华中应具有的优秀品质。(2 分)

15. [2024 湖北中考]【能源科技与创新】(8 分)

材料一 17、18 世纪,热力学发展起来。瓦特研读了有关热力学书籍,站在先驱者肩膀上,终于改进出新的蒸汽机,从而把工厂从选址限制中解放出来,带来整个工业领域的革命。蒸汽机不仅代表着能源技术的发展,更使人类社会进入工业化时代。

——摘编自焦娅敏、张贵红主编《能源科技史教程》

材料二 第二次工业革命是科学研究同工业生产紧密结合的结果,能源科技进一步发展。电磁学理论的建立,推动发电机的诞生,电力成为新的能源,人类进入电气时代。热力学的成熟使蒸汽机日益完善,并促成内燃机的诞生,石油成为重要能源。

——摘编自焦娅敏、张贵红主编《能源科技史教程》

材料三 石油、天然气等储量是有限的。人类只有设法节约和开发新能源,才能应对能源危机。在 21 世纪能源战略中,中国不断推进能源科技创新,在世界新能源的开发和利用中贡献了力量。

——摘编自吴于廑、齐世荣《世界史》等

根据上述材料,回答下列问题

(1)根据材料一并结合所学,分析瓦特成功改进蒸汽机的原因和影响。(4 分)

(2)根据材料二,写出在第二次工业革命中新能源科技发展的表现。(2 分)

(3)根据材料三并结合所学,提出应对当今能源危机的合理化建议。(2 分)

16. [2024 湖北中考]【社会的变迁】(10 分)

重要事件影响人类历史发展,改变着社会的诸多方面。下表 中三个图例折射了三个不同时代的社会。

图例	 图例 1 16 世纪 30 年代西欧植物绘画《大车前》	 图例 2 20 世纪 20 年代男孩着装和发式	 图例 3 20 世纪 90 年代学生通过互联网学习知识
说明	文艺复兴时期,植物绘画不仅栩栩如生,还向公众呈现令人愉悦的美。	辛亥革命后,我国男子留短发成为时髦,服饰、休闲娱乐方式日益开放。	我国改革开放以来,互联网发展迅速,人们的思想观念和学习方式发生深刻变化。

根据上述材料,围绕“重要历史事件与社会变迁”,选取其中两个图例,自拟标题,运用中国史和世界史相关史实加以论述。(要求:观点明确,史论结合,表述成文)