



重庆市 2024 年初中学业水平暨高中招生考试(B 卷)

卷5

历史

一、选择题:本大题共 15 小题,每小题 1 分,共 15 分。在备选答案中只有一项是符合题目要求的。请按要求作答。

1. [2024 重庆中考 B 卷]在湖北屈家岭遗址,考古工作者发掘出距今约 5 100 年的规模庞大的史前水利系统,以及大量稻作遗存、磨光黑陶等。这些考古遗存可用于研究 ()
- A. 炎黄部落起源 B. 原始农耕生产
- C. 史前制瓷技术 D. 大禹治水过程
2. [2024 重庆中考 B 卷]下表是某历史老师梳理的我国古代部分政权的统治措施。这些措施都 ()

时期	主要史实
西周	周武王灭商后,对“殷遗民”实行“殷人治殷”
魏晋	匈奴刘汉政权针对境内多民族共存局面,实行“胡汉分治”
辽朝	“以国制治契丹,以汉制待汉人”

- A. 体现了因地制宜的治理方式
- B. 导致了阶级矛盾的激化
- C. 改变了少数民族的游牧生活
- D. 形成了政权并立的格局
3. [2024 重庆中考 B 卷]下图所示为我国古代劳动者利用杠杆原理进行谷物加工的场景:左边两人扶在栏杆一头,借用身体下压的力量,启动杆头,达到舂米的效果。据此可知 ()



东汉画像砖(四川彭山出土)

- A. 四川地区经济较发达 B. 劳动者精力学理理论
- C. 实用技术应用于生产活动 D. 政府组织大规模集体劳动
4. [2024 重庆中考 B 卷]唐朝前中期,渝州地区人口增长较迅速,大量的无地农民纷纷涌入深山莽原,开垦土地,开发山林。这一现象 ()
- A. 促使我国经济重心南移 B. 有利于渝州区域经济开发
- C. 推动北方少数民族南迁 D. 推广了玉米等高产农作物
5. [2024 重庆中考 B 卷]1762 年,清朝以伊犁为“新疆都会”,筹划当地驻兵屯田,决定 1764 年至 1766 年,将凉州和庄浪满洲、蒙古兵悉数携眷迁往伊犁永久驻防。这一决定旨在 ()
- A. 使清朝实现对全国的统治 B. 平定准噶尔部噶尔丹叛乱

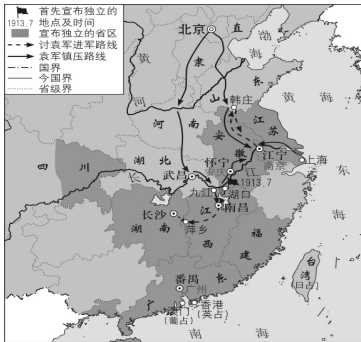
C. 加强清朝对西北地区管辖 D. 帮助土尔扈特部回归祖国

6. [2024 重庆中考 B 卷]下图所示为 1902 年发行的儿童读物《启蒙画报》中的一幅图画。在一个书房里,墙上挂着火枪,中间站着一位意气飞扬的少年,正注视着桌上的地球仪。图画作者意在 ()

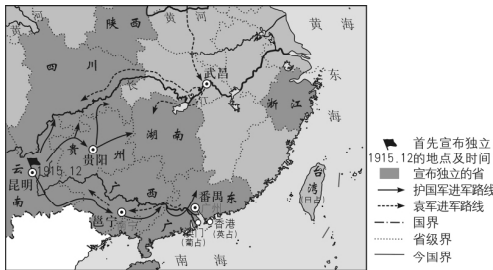


- A. 肯定义和团运动意义
- B. 宣传新式报刊的创办
- C. 激发救国图强的志气
- D. 颂扬全国学制的统一

7. [2024 重庆中考 B 卷]从下列两幅形势图中可以得出的推论是 ()



二次革命形势图



护国战争形势图

- A. 革命运动都从南到北席卷全国
- B. 革命中宣布独立的省区完全相同
- C. 两次斗争都反对北洋军阀割据混战
- D. 孙中山为维护共和展开了不懈斗争
8. [2024 重庆中考 B 卷]李大钊在“一战”将结束时说:“此次战争,使欧洲文明之权威大生疑念”,而俄国十月革命第一次把社会主义从书本上的学说变成活生生的现实。材料可以用来说明 ()
- A. 中国人民选择马克思主义的原因
- B. 五四运动是新民主主义革命开端
- C. “一战”动摇了欧洲的优势地位
- D. 十月革命后俄国退出了“一战”
9. [2024 重庆中考 B 卷]抗日战争期间,根据地实行减租减息政策,例如减租的办法是把农民交给地主的原租额减少 25%,正租以外的杂租、劳役和各种形式的高利贷一律取缔。这一举措 ()
- A. 消灭了封建剥削土地制度 B. 标志着根据地民主政权的建立
- C. 巩固了抗日民族统一战线 D. 使敌后战场率先发起局部反攻

10. [2024 重庆中考 B 卷]下图所示内容是某同学整理的笔记,由此判断其学习主题是 ()

2014.12 中国为支持“一带一路”建设而设的丝路基金开始运行

2015.7 中国推动成立的金砖国家新开发银行开业

2017.10 中国首趟由外国零售企业定制的中欧班列发车

2021.11 中非制定《中非合作 2035 年愿景》

2021.12 中老(老挝)铁路全线正式通车运营

- A. 经济体制改革 B. 祖国统一大业
- C. 新时代强军之路 D. 构建人类命运共同体
11. [2024 重庆中考 B 卷]亚历山大及其继承者们在东方的土地上建立了 300 多座希腊城市,并建有希腊式剧场和体育场,这些城市定期巡回上演希腊的悲剧和喜剧。材料可以用来说明 ()
- A. 罗马征服了意大利半岛 B. 希腊的城邦制度影响深远
- C. 雅典民主政治达到高峰 D. 亚历山大东征的客观作用
12. [2024 重庆中考 B 卷]19 世纪 40 年代起,伦敦的报纸可以及时送往全国各地,铁路公司为液态奶打开了城市市场,铁路还需要标准时间来制定时刻表,火车还改变了邮政服务。材料表明 ()
- A. 英国掀起了建设铁路的热潮
- B. 近代交通改变了社会生活
- C. 蒸汽机车广泛运用到运输业
- D. 铁路导致人口大规模流动
13. [2024 重庆中考 B 卷]历史解释是指以史料为依据,客观地认识和评判历史的态度和方法。下列叙述中属于历史解释的是 ()
- A. 郑和率船队 7 次下“西洋”,最远到达非洲东海岸和红海沿岸
- B. 《共产党宣言》的发表,推动了国际共产主义运动的兴起和发展
- C. 1867 年,瑞典化学家诺贝尔发明现代炸药,后研制出无烟炸药
- D. 1937 年 8 月至 9 月,民生公司将数万名川军运送出川对日作战
- [2024 重庆中考 B 卷]20 世纪中后期,世界形势纷繁复杂。请根据下面时间轴的相关信息完成第 14—15 小题。



14. 以上时间轴的相关史事反映了 ()
- A. 民族独立运动瓦解了殖民体系
- B. 美国成为世界唯一超级大国
- C. 中国的改革开放取得巨大成就
- D. 社会主义力量不断发展壮大
15. 这一时期历史发展的主要趋势是 ()

- A. 世界格局出现多极化 B. 世界发展从分散到整体
C. 教育开始走向大众化 D. 社会保障制度从无到有

二、非选择题:本大题共3小题,第16题14分,第17题15分,第18题6分,共35分。请按要求作答。

16. [2024 重庆中考 B 卷](14 分)阅读下列材料,回答问题。

材料一 中国先秦时期最重要的技术成就之一是冶炼术。商周时期是使用青铜器的极盛时代,不仅有青铜农具等生产工具,还有祭祀用的礼器和大量的兵器。……我国的人工铸铁技术起步较晚,但由于先前已发展了极为先进的青铜冶铸技术,铸铁技术发展很快。春秋战国时期,我国出现了生铁冶铸技术和铸铁柔化技术,这两项冶金史上的重大突破,远远领先了欧洲上千年。战国后期,冶铁业在全国各地广泛建立起来,使铁器的使用大为普及,极大地促进了社会生产力的发展。

——摘编自吴国盛《科学的历程》

(1)以下表述是从材料一中得出的,请填“√”;违背了材料一所表述的意思的,请填“×”;是材料一没有涉及的,请填“○”。(3分)

- A. 商周青铜礼器的类型和数量反映了权力大小和严格的等级界限。_____
B. 我国冶铁技术起步早,为商周的青铜冶铸技术发展奠定了基础。_____
C. 青铜冶铸技术和冶铁技术的进步都是社会生产力提高的表现。_____

(2)根据材料一并结合所学知识,简析战国后期铁器使用的推广在政治方面产生的影响。(2分)

材料二 阿拉伯帝国时期,科学得到大发展,其主要成就表现在数学、天文学、地理学、医学等实用科学方面。在数学方面,最突出的贡献是引用印度已有数字。大约是阿拉伯人频繁的商业活动特别需要这种方便的印度数字,它很快就在阿拉伯世界得到普遍的使用,阿拉伯人广泛进行代数学、几何学、测量学的研究和运算,使其数学在中世纪数学研究中处于世界前沿。在医学方面,拉齐的《医学集成》总结了阿拉伯人从希腊、波斯与印度吸收来的医学知识,做出了医学分类,在妇科、产科、眼科和外科方面都有新的建树。伊本·西纳写的综合性医书,直到17世纪仍然是欧洲使用的教本。

——摘编自马克垚《世界文明史》等

(3)根据材料二,概括阿拉伯帝国时期科学成就的特点。(4分)

材料三 中共十八大以来,中国正从网络大国向网络强国迈进。中国网民数量、网络零售交易额、电子信息产品制造规模已居全球第一,建成全球最大规模光纤和移动通信网络。云计算、大数据、物联网、移动互联网、人工智能等新一代信息技术

广泛深入应用,移动支付、共享出行、工业互联、智慧城市等数字经济加快推进。“互联网+教育”“互联网+医疗”等深入发展,加快建设数字政府、数字乡村,信息惠民便民成效显著。为营造安全网络空间,颁布《中华人民共和国网络安全法》,互联网建设管理水平和网络空间治理能力得到提升。

——摘编自中国历史研究院主编《(新编)中国通史纲要》


(4)根据材料三,概括十八大以来我国建设网络强国取得的成就,(3分)并结合所学世界史的相关内容,指出我国网络信息技术快速发展的外部条件。(2分)

17. [2024 重庆中考 B 卷](15 分)中华优秀传统文化具有独特魅力,蕴含着中国智慧和中國精神,某校历史组开展了“中华优秀传统文化·传承与践行”为主题的探究活动,请你完成相关任务。

【任务一 研文物中的文化】

左图部分文字为“衡石不正,十六两以上,赏官啬夫一甲;不盈十六两到八两,赏一盾”(意为:如果衡器的误差超过十六两,那么负责管理衡器的官员啬夫将被罚缴一件铠甲;如果误差在十六两以下到八两之间,则会被罚缴一个盾牌。)

图一 湖北云梦睡虎地出土的秦简



图二 秦乐陶俑(云南大理出土。749年,南诏王带回龟兹乐两部,图为南诏国演奏胡乐的艺术再现)

(1)图一、图二所示文物按照史料类型,都属于_____;(1分)图一能够实证秦朝推行的措施是_____(2分)从图二中我们还能获得唐朝哪些相关历史信息?(3分)

【任务二 究戏剧中的精神】

	<p>1940年,中共中央明确提出在国民党统治区发展抗日文化运动,要求南方局“应对发展文化运动问题……加以切实研究。”遵照这一指示,由周恩来直接领导的文化工作委员会以开展文艺创作、艺术演出等形式,宣传抗战、呼唤民主。</p> <p>1942年,重庆国泰剧场首次公开演出郭沫若新编历史剧《屈原》。该剧从创作、排练到公演,一直得到周恩来和南方局的指导和支持。它以艺术的形式对古代诗人屈原的刚毅性格、崇高抱负、家国情怀进行了生动演绎。《屈原》呼吁全国人民抗战,反对妥协投降,其爱国主义精神得到宣传和张扬。</p>
--	---

(2)根据以上材料并结合所学知识,判断以下表述的正误。你认为正确,请填“√”;不正确,请填“×”。(2分)

A. 除话剧《屈原》外,郭沫若在重庆还创作了《四世同堂》等作品。_____

B. 话剧的成功演出是南方局落实发展抗日文化运动指示的具体表现。_____

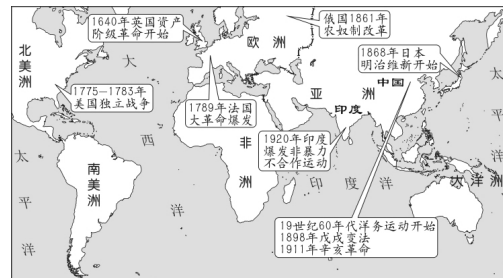
(3)根据任务二的图文信息,分析中国共产党的文化政策产生的历史作用。(2分)

【任务三 析实践中的理念】

<p>(4)根据任务三中的材料,概括我国取消农业税进程的特点,(1分)并分析我国取消农业税的历史意义。(3分)</p>

(5)综上,我们应如何保护和传承中华优秀传统文化?(1分)

18. [2024 重庆中考 B 卷](6 分)阅读材料,完成任务。



某老师制作了以上示意图,请从图中选出两个或两个以上的史事,并结合所学,自拟一个你想论述的观点,加以阐述或说明。(要求:观点正确,史论结合,条理清楚)