

2024 年玉环市中考模拟考试卷

历史与社会·道德与法治

亲爱的考生：

欢迎参加考试！请你认真审题，仔细答题，发挥最佳水平。答题时，请注意以下几点：

1. 全卷共 8 页。满分 100 分。考试时间 100 分钟。
2. 答案必须填写在答题卷相应的位置上，写在试题卷、草稿纸上无效。
3. 答题前，请认真阅读答题卷上的“注意事项”，按规定答题。

一、是非题（本大题有 8 小题，每小题 1 分，共 8 分。答题卷上正确的涂 T，错误的涂 F）

1. 男女生交往要秉持内心坦荡、言谈得当、举止得体的原则……………
()
2. 附加刑包括剥夺政治权利、罚款、没收财产、驱逐出境……………
()
3. 小李用自己的车在业余时间开滴滴体现了他对财产的处分权……………
()
4. 基层群众自治制度有利于人民直接行使国家权力……………
()
5. 在等高线地形图中，等高线稀疏的地方爬山相对省力……………
()
6. 海南文昌作为卫星发射基地的主要优势是该地降水少晴天多，发射机会更多……
()
7. 陕西延安成为红色旅游热门地区的原因是延安为中共的诞生地……………
()
8. 日本明治维新、俄国农奴制改革都保留了大量的封建残余……………
()

二、选择题（本大题有 20 小题，每小题 2 分，共 20 分。每小题只有一个正确选项，不选、多选、错选均不给分）

9. 右图漫画《踢猫效应》告诉我们

- A. 情绪既复杂多样又持久稳定
- B. 人与人之间的情绪有感染性
- C. 人的情绪受多方面因素影响
- D. 情绪不好时可以肆意地发泄



第 1 题图

10. 下列对于古语或诗句理解正确的是

选项	古语/诗句	理解
----	-------	----

A	只解沙场为国死，何须马革裹尸还	生命是不可逆的，要珍爱生命
B	以人为镜，可以明得失	做更好的自己，激发自己的潜能
C	一言许人，千金不易	我们要诚信待人
D	海内存知己，天涯若比邻	友谊是一成不变的

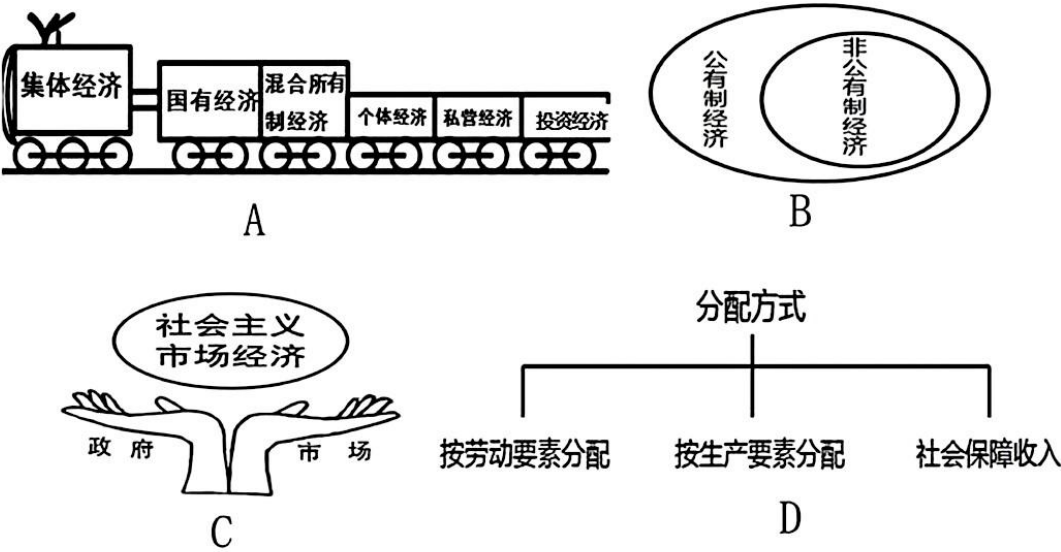
11. 《未成年人保护法》第六十二条规定：密切接触未成年人的单位招聘工作人员时，应当向公安机关、人民检察院查询应聘者是否具有性侵害、虐待、拐卖、暴力伤害等违法犯罪记录；发现其具有前述行为记录的，不得录用……。这属于对未成年人的

- A. 家庭保护 B. 社会保护 C. 政府保护 D. 司法保护

12. 2024 年 3 月 5 日，十四届全国人大代表中唯一一位盲人代表王永澄手上的政府工作报告与众不同，它是会场唯一一份盲文版的政府工作报告。王永澄用指尖一行一行“读”着。全国人大首次制作和提供盲文版会议文件这一做法

- A. 保障了该代表的选举与被选举权 B. 体现了公民当家作主的基本原则
C. 说明了全国人大依法享有监督权 D. 宣扬了社会公正平等的法治精神

13. 初中生阳阳在学习了《基本经济制度》一课后，画了如下图示，其中正确的是



14. “其他法律是根据宪法制定的，不得与宪法的原则和精神相违背。否则，就会因违宪而无效。”这句话说出了宪法的

- A. 核心内容 B. 基本原则 C. 核心价值 D. 法律地位

15. 鲁菜文化可以上溯到 2000 多年前的商周时期，鲁菜大师崔义清说：“穷其一生，尚不得鲁菜之精髓”。这说明中国鲁菜文化

- A. 源远流长，博大精深 B. 海纳百川，与时俱进
C. 不忘本来，推陈出新 D. 绚丽多彩，薪火相传

16. 2023 年第六届进博会在上海举行，成交金额达 784.1 亿美元，比上届增长 6.7%，这份成

绩单为 global 经济发展繁荣注入了强大正能量。由此可见

- A. 我国极力推动与会各国建立国际性联盟组织
- B. 我国顺应经济全球化的趋势，推进合作共赢
- C. 中国是国际发展的决定力量，主导世界格局
- D. 改革开放使得中国人民开始站起来、富起来

17. 小敏五一期间去某地旅游，该地雪峰连绵，牦牛成群。她的旅游目的地可能是我国四大地理区域中的

- A. 南方地区
- B. 北方地区
- C. 西北地区
- D. 青藏地区

2024 年 7 月-8 月，第 33 届夏季奥运会将在法国巴黎举办。据此回答 18-19 题。

18. 巴黎奥运会的开幕式选在塞纳河畔举行。位于塞纳河畔的著名建筑是



A



B



C



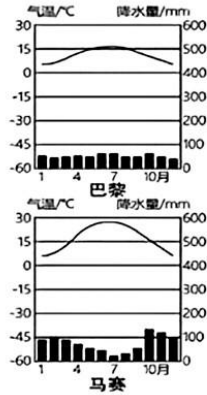
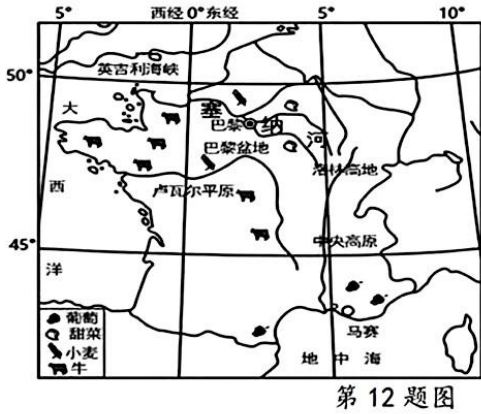
D

19. 某中学生搜集了一些地图，为即将参加巴黎奥运会的中国队员写了几份小贴士。据图判

断小贴士，正确的是

- ①餐厅中牛羊肉和乳制品随处可见
- ②比赛期间巴黎干燥炎热天气为主
- ③比赛结束后可去马赛享受日光浴
- ④返程可以购买享誉盛名的葡萄酒

- A. ①②③
- B. ①②④
- C. ①③④
- D. ②③④



20. 某旅行社为暑期中学生研学旅行撰写了一些旅行广告词。其中正确的是

- A. 在尼罗河畔观光，欣赏古巴比伦城风貌
- B. 在两河流域驻足，感受种姓制度的森严
- C. 观雅典卫城遗址，领略海洋文明的魅力
- D. 沿着印度河而行，了解楔形文字的奇妙

21. 18 世纪中期，英语词汇“operative（操作工人）、proletariat（无产阶级）”等新词不断涌现。18 世纪后期，这些词汇又逐渐成为欧洲其他国家的“热词”。这反映了

- A. 英国殖民扩张致使欧洲语言趋同
- B. 制度优势提升了英国的影响力
- C. 工业革命扩大了英语的外部影响
- D. 世界市场拓展增强了欧洲联系

22. 我国明朝时期创造的“鸳鸯阵”，以 12 人为一作战小组，长短兵器结合，协同作战，攻防两便，战斗力大为增强。与该阵法相关的诗句是

- A. 晚清庚子风云变，八国列强入京城 B. 郑公七次下西洋，受命天朝赴远航
C. 开辟荆榛逐荷夷，十年始克复先基 D. 上报天子兮下救黔首，杀尽倭奴兮觅个封侯

23. 1923 年，梁启超曾说：“革命成功将近十年，所希望的件件都落空，渐渐有点废然思返，……渐渐要求全人格的觉醒。”梁启超意在说明

- A. 新文化运动的必然性 B. 辛亥革命的进步性
C. 维新变法的可行性 D. 北伐战争的紧迫性

24. 辽最具代表性的瓷器为鸡冠壶（以其形似鸡冠得名）。早期为穿孔式，绳索可穿孔而过，方便固定在马背上；到中晚期变为适合居室使用的提梁式鸡冠壶。以上变化直接反映了



辽早期鸡冠壶 辽中晚期鸡冠壶

第 17 题图

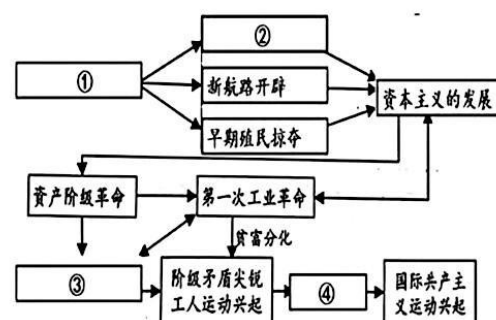
- A. 生活方式的改变 B. 制瓷技术的先进
C. 边境贸易的兴旺 D. 对汉文化的学习

25. 以下历史评价与战役，对应正确的是

- ① “苏联人民取得这一战役的胜利，制止了侵略浪潮，成了盟军反侵略战争的转折点。”
② “……最重要的战果，则是严重打击了敌人的囚笼政策，钳制了敌人大量的兵力。”

- A. ①莫斯科保卫战 ②台儿庄战役 B. ①斯大林格勒战役 ②百团大战
C. ①柏林战役 ②第三次长沙会战 D. ①中途岛战役 ②豫湘桂战役

26. 右图是以“资本主义发展与国际共产主义兴起”为主题的思维导图，其中②处应填写的内容为



第 18 题图

- A. 资本主义萌芽的出现 B. 马克思主义诞生
C. 资本主义制度的确立 D. 文艺复兴运动

27. 二战后亚非拉地区掀起了实现民族独立、捍卫国家主权的斗争浪潮。下列历史事件中能够佐证上述观点的是

- A. 苏联的社会主义建设 B. 埃及的华夫脱运动
C. 印度的非暴力不合作运动 D. “非洲年”的 17 个国家独立

28. 某学习小组在百度搜索中输入“安理会”、“维护国际和平及安全”、“维和部队”这三个关键词，最有可能检索到的国际组织是

- A. 联合国 B. 世界贸易组织 C. 欧盟 D. 二十国集团

三、材料题（本大题有 5 小题，共 52 分）

29. (8分) 生活中的冲突难以避免, 阅读材料, 回答问题。

排练和我打球时间冲突了...

小李

班级要参加大合唱比赛, 还在排练呢, 你怎么走了?

小李轶事

轶事一: 小李因成绩下降受到了班主任的批评教育, 他却对班主任的话不屑一顾, 反而顶撞班主任。

轶事二: 小李因身着奇装异服, 与父母发生了严重的冲突。傍晚妈妈尝试与他交流, 他却扔下一句话: “我们之间的冲突是无法解决的。”

(1) 漫画中的“冲突”其本质是哪两者利益的冲突? 结合道德与法治相关知识, 说说此时小李应如何正确处理? (4分)

(2) 请运用道德与法治相关知识, 指出小李在“轶事一”中有何错误, 并对“轶事二”中小李的话做出评析。(4分)

30. (8分) 某校组织开展“爱国主义教育课程”, 同学们制作了学习卡, 请你一起来参与完成。阅读材料, 回答问题。

学习卡一·第一组同学实地走访玉环市某爱国主义教育基地, 采集到以下信息:

- ❖ 开展海岸带修复与整治工程, 建设山体绿化及堤岸绿化, 对滩涂湿地生态进行修复。
- ❖ 建设红色旅游基础设施, 改造古老的石屋, 开发海岛乡村旅游, 助农增收, 振兴渔村。
- ❖ 陆续投入资金, 建设文化礼堂、文化广场、村活动俱乐部等公共设施。

(1) 采集的信息反映了“五位一体”总体布局中的哪些内容? (2分)

➤ 学习卡二·第二组同学从网上搜集了以下资料

- ◎ 中共是爱国主义精神最坚定的弘扬者和实践者。为贯彻党中央决策部署, 全国人大常委会广泛听取社会各界的意见建议, 表决通过爱国主义教育法。
- ◎ 网信部门表示将进一步指导网络信息服务提供者加强爱国主义教育网络内容建设, 持续加大对含有违反爱国主义教育法内容的网络信息的治理力度。
- ◎ 《人民法院报》发文: 人民法院持续加大对含有违反爱国主义教育法行为的治理力度, 保障爱国主义教育法的实施。

(2) 结合学习卡二, 分析各方主体是如何以法治来助推爱国主义教育的。(4分)

(3) 该校要组织一次加强爱国主义教育的活动，设计了一个活动方案，请你完善它。(2分)

活动形式：_____ (1分)

活动内容：4月1日举行初赛，以书面考试的方式择优选择总分前10名进入决赛；4月15日举行现场决赛，以必答题、抢答题方式进行比赛，最终取总分的前六名进行表彰。

活动意义：除了可以加强爱国主义教育外，此次活动还可以…… (1分)

31. (10分) 柯柯牙绿化工程是新疆阿克苏地区一项防沙治沙综合性工程。2020年起，浙江人民通过“我有一棵树 长在阿克苏”行动助力柯柯牙工程。阅读材料，回答问题。

材料一：【爱心助力柯柯牙】

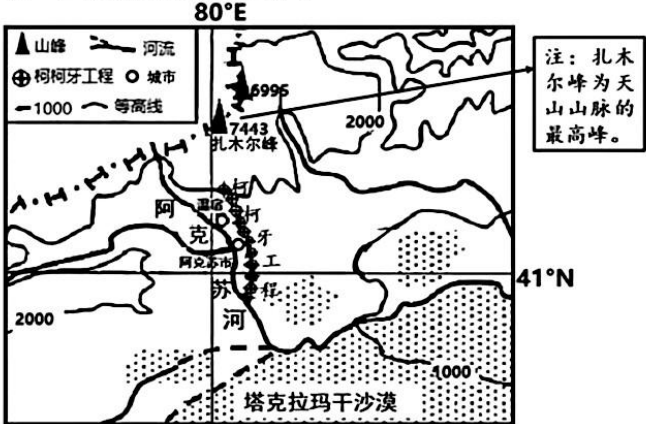


图1 阿克苏区域图

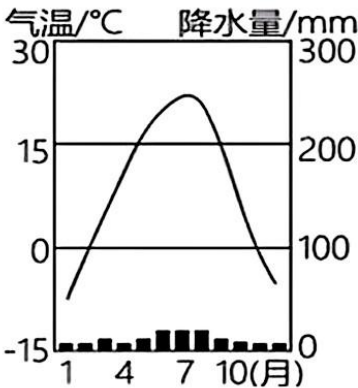


图2 阿克苏市气温降水图

(1) 请根据图一信息，描述柯柯牙工程的位置。(2分)

材料二：【秋收万颗爱心果】某大学千余名师生在2023年认种了41颗苹果树，收获了410箱“阿克苏冰糖心”苹果。学生小王非常疑惑：“阿克苏地区沙质土壤广布、干旱、全年气温普遍较低，为什么还能产出果面光滑、甘甜味厚的优质苹果？”

(2) 请你根据材料一、二信息帮助小王同学解答疑惑。(4分)

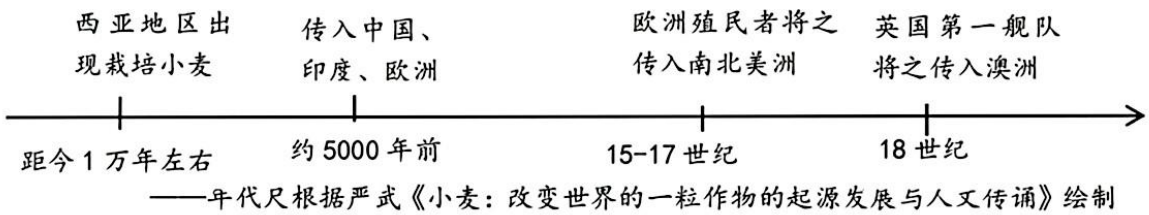
材料三：【戈壁荒漠换新颜】从1986年起，柯柯牙工程累计植树造林7.5万亩。该地区除种植防护林外，还种植苹果等经济林，目前经济林已占整个工程的86%。造林工程30年来，年平均扬沙天数由18.38天减少到8.57天。截至2023年底，阿克苏市仅寄递“冰糖心”苹果就达274万件，带动果农增收超亿元。

(3) 从可持续发展的角度，谈谈柯柯牙地区种植经济林的重要意义。(4分)

32. (12分) 小麦是一种全球性的粮食作物，被称为“磨出来的美食”。传统的馒头、油条，

西式披萨、烤面包等麦制品都深受民众的欢迎。走进“中国小麦博物馆”了解其发展历程。阅读材料，回答问题。

展厅一：【麦之源 传四方】



(1) 结合所学知识，分析小麦传入南北美洲和澳洲的时代背景。(2分)

展厅二：【麦之具 创新貌】



东汉 石转磨



A: ▲



B: ▲

(2) 写出展厅中 A、B 两件展品的名称。(2分)

展厅三：【麦之文 话种植】

朝代	史料	解读
西汉	“今关中俗不好种麦……是岁失春秋之重，而损生民之具。”——董仲舒 “饼饵麦饭甘豆羹”——史游（后人注释：“麦饭豆羹，皆野人农夫之食耳”）	秦汉以前，北方的主要农作物是▲。经董仲舒建议，小麦开始在黄河流域和淮河流域种植。当时人们习惯蒸煮小麦粒，口感极差，只有贫穷人家食用或以备荒救荒之用。
唐朝	“田间少闲月，五月人倍忙。夜来南风起，小麦覆陇黄。”——白居易	小麦开始在北方大面积种植，并成为北方居民的主食。
南宋	“绍兴（宋高宗年号）初，麦一斛竟至万二千钱。农获其利，倍于种稻。”——《鸡肋编》 “处处稻分秧，家家麦上场”——陆游	▲，推动了小麦在江南地区的种植，并出现了稻麦复种技术，大大提高了粮食产量。

(3) 根据所学知识及史料内容，完善解读 ▲ 中的内容。(2分)

(4) 综合上述材料，请你围绕“小麦的推广及价值”为中国小麦博物馆写份前言。(6分)

33. (14分) 首钢集团历经百年风雨，在新时代铸就出新的辉煌。阅读材料，回答问题。

【从“山”到“海”的远迁】首钢始建于1919年，选址在北京市西郊石景山山麓（基岩坚固）建立。2001年，北京申办“2008夏季奥运会”成功，提出“绿色奥运、科技奥运、人文奥运”的理念，2005年首钢迁至曹妃甸。

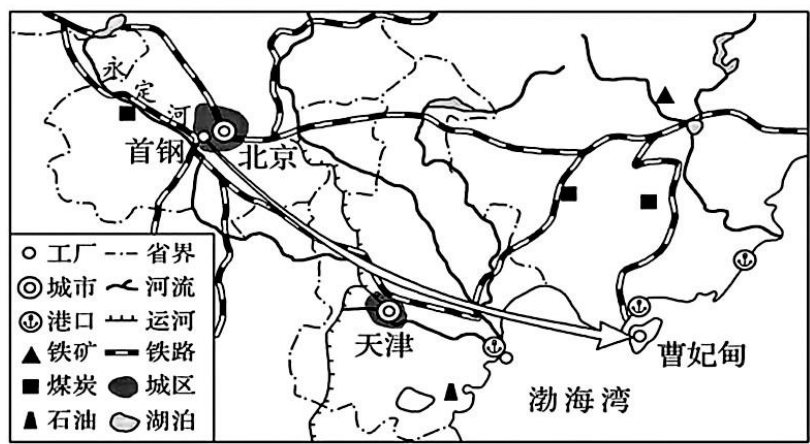


图1 首钢搬迁示意

(1) 根据材料，从以下任务中任选一项完成。(2分)

- ①首钢早期选择在北京建厂的原因
- ②首钢从北京搬迁至曹妃甸的原因

【由“衰”转“盛”的百年】各时期在首钢工人中传唱的歌谣，体现了时代的变迁。

- ◆歌谣一：鬼子刺刀下，早晚一命完。要想回家去，没有盘缠钱。工人天天盼，鬼子早完蛋。
- ◆歌谣二：一天打破两面鼓，两天敲碎三面锣，不是锣鼓质量差，得亏国家工业化！（20世纪50年代）
- ◆歌谣三：说改革，话开放，工资年年往上涨，能做主，创第一，我为四化多炼钢！

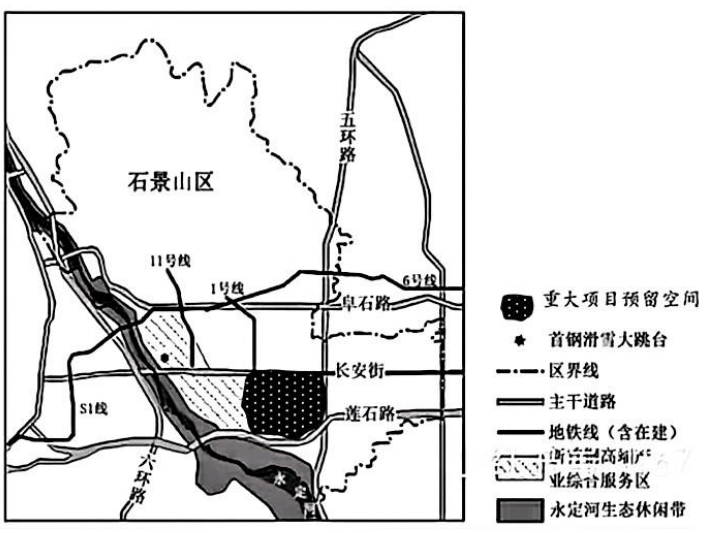
(2) “时代变迁影响了首钢发展”，综合材料和结合所学知识进行论述。(6分，要求：史论结合、逻辑严密)

【破“旧”立“新”的蜕变】传统工业如何发展新质生产力？首钢给出了自己的答案。

- 首钢联合40家高校、科研机构共同组建全国首个“科技产业联合体”。首钢还与科研院所合作，应市场需求不断研发高新产品，取得了良好的市场反馈。
- 目前，首钢集团聚焦全要素生产率提升，减少了铁矿石的投入比例，搭配绿色节能降耗措施，降低了碳排放10%以上。

(3) 依据“首钢的答案”，说说你对“新质生产力”的理解。(4分)

【集“思”广“益”的转身】在首钢8.63平方公里的旧厂区，保留了高炉、冷却塔、运铁路专用线、机车等珍贵的工业历史遗存。2017年国家体育总局在首钢旧厂区建设



了国家冬训中心，包括短道速滑馆、花样滑冰馆冰球馆等，还剩下 3.5 平方公里的面积作为重大项目预留空间。

（4）根据资料，请你就首钢旧厂区 3.5 平方公里预留空间的“再利用”发表看法，并说明理由。（2 分）

2024 年玉环市中考模拟考试

历史与社会•道德与法治参考答案及评分标准

一、是非题（本题有 8 小题，每小题 1 分，共 8 分）

题号	1	2	3	4	5	6	7	8
答案	T	F	F	F	T	F	F	T

二、选择题（本题有 20 小题，每小题 2 分，共 40 分）

题号	9	10	11	12	13	14	15	16	17	18
答案	B	C	B	D	C	D	A	B	D	A
题号	19	20	21	22	23	24	25	26	27	28
答案	C	C	C	D	A	A	B	D	D	A

三、材料题（本大题有 5 小题，共 52 分）

29. (1) 个人利益与集体利益的冲突。(2 分) 当个人利益与集体利益发生冲突时, 应把集体利益放在个人利益之上, 坚持集体主义。小李此时应该将个人打球让步于班级集体排练, (理论与实际做法各 1 分, 共 2 分)
- (2) 不能正确对待老师的批评或者不尊重师长或不能做到文明有礼。(1 分) 他的话是错误的。(1 分) 只要掌握互动沟通的技巧和应对冲突的智慧, 试着接纳父母、理解父母, 冲突是能化解的。(2 分)
30. (1) 生态文明建设、经济建设、文化建设、社会建设(任选 2 点, 2 分)
- (2) ①中共决策部署修订爱国主义教育法表明中共是中国特色社会主义事业的领导核心, 党领导立法; ②全国人大常委会广泛听取意见, 制定爱国主义教育法表明立法机关科学立法、制定良法; ③网信部门指导网络建设、加大相关治理力度表明行政机关依法行政、严格执法; ④人民法院加大惩办力度说明司法机关公正司法。(任选两点, 每点 2 分, 共 4 分)
- (3) 活动形式: 知识竞赛(1 分)。
- 活动意义: 增长有关知识; 增强实践能力; 培养临场气魄及表达能力等(1 分)
31. (1) 柯柯牙工程位于阿克苏市东侧(或阿克苏河东侧、塔克拉玛干沙漠北缘)(任意一点, 1 分); 北半球、东半球、北温带、中纬度。(任意一点, 1 分)
- (2) ①阿克苏地区属于温带大陆性气候, 降水少光照充足, 昼夜温差大, 利于苹果糖分积累, 苹果糖度高; ②高山冰雪融水灌溉, 水质优良, 有利于苹果品质的提升; ③阿克苏地区气温普遍较低, 使得果品生长期病虫害少, 果面比较光滑、色泽光亮, 品质优良。④阿克苏地区沙质土壤, 排水性能好, 为苹果树提供了优良的生长环境。(四选二, 4 分)
- (3) 在风沙危害大的地区种植经济林, 有利于防风固沙保护生态, 促进生态的可持续发展。(2 分) 大面积种植经济林有利于提高农民的收入, 促进社会和经济的可持续发展。(2 分)
32. (1) 新航路开辟及欧洲殖民国家在南北美洲和澳洲建立殖民地, 促使小麦传入。(2 分)
- (2) 曲辕犁、筒车(2 分);

(3) 黍或粟(1分);北方人口大量南迁(或丰厚利润的驱使/受北方人民饮食习惯的影响)。(1分)

(4) ①西汉时期,在政府的推动下,小麦在黄河流域和淮河流域开始种植,帮助北方人民应对粮食危机,巩固国家统一。②但受气候条件、灌溉条件的影响,以及人们没有掌握小麦的食用方法,很长时间难以推广。(二选一)③唐朝时期,随着曲辕犁、筒车的出现,以及磨制工具的改进(二选一),使小麦成为北方的主要粮食作物,丰富了北方人民的饮食结构。④南宋时期,北民南迁,稻麦复种技术的应用,大大提高了粮食产量,促进了经济重心南移。(写出不同时期的推广和影响,3点6分)

33. (1) ①石景山山麓基岩坚固,可以承受高炉等重压;靠近永定河,工业用水便利;周边有煤炭资源,燃料充足;靠近大城市,市场广阔,劳动力及人才充足;位于郊区,地价便宜(2点即可,共2分)

②曹妃甸周边距离煤炭和铁矿资源更丰富,原料和燃料充足;曹妃甸濒临海洋,海运便利;有利于保护北京市的环境,符合北京奥运会的申办理念。(2点即可,共2分)

(2) ①抗日战争时期首钢受日本帝国主义的压迫和战争影响,因此发展缓慢。(2分)

②新中国实行第一个五年计划,国家集中力量发展重工业,建立国家工业化和国防现代化的初步基础,使首钢得到了快速发展。(2分)

③改革开放后,随着城市经济体制改革开展,企业的经营自主权得到加强,大大调动了企业、工人的积极性,增强企业活力,首钢发展出现大发展的崭新局面。(2分)

(3) ①新质生产力应该坚持科学技术是第一生产力,创新是第一动力,深入实施科教兴国战略、人才强国战略、创新驱动发展战略;坚持创新的新发展理念,促进高科技发展。(2分)

②新质生产力应该坚持节约资源和保护环境的基本国策,坚持绿色的新发展理念,推动高效能发展。(2分)

(4) 本题为开放题,只要做到有理有据,言之有理均可。(看法1分,理由1分)

答案范例:

①建设工业博物馆。从1919年到2005年,首钢见证了中国近代史和新中国的百年发展史,保留下了众多珍贵的工业历史遗存,有利于传承历史文化。

②建大型体育中心。已经有了冬训中心的基础,并且交通便利,可以发展体育事业,并带动其他产业发展。

③建全民休闲中心(市民广场)。依托永定河生态休闲带,给北京市民打造一处大型的休闲之处,增强人民的幸福感,满足人民对美好生活的需求。