

## 历史试题

本试卷满分 100 分,考试时间 75 分钟。

一、单项选择题:共 15 题,每题 3 分,共 45 分。每题只有一个选项最符合题意。

1. 新石器时代晚期,镶嵌绿松石的玉石器在葬仪和祭祀中扮演重要角色。绿松石的镶嵌方法中最具代表性的有孔嵌法和平面镶嵌法。孔嵌法沿黄河自东向西传播;平面镶嵌法与之相反,从甘肃、青海地区向黄河中下游传播。这可用于印证 ( )

- A. 南北方生产工艺的融合
- B. 母系氏族社会审美的改变
- C. 原始文化的传播与交流
- D. 阶级社会等级秩序的建立

2. “岳麓秦简”中记录的秦人丈量土地时计算圆面积的 4 种简易方法,可与《九章算术》“周三径一”的算法互证,展现出古老简牍里的科技之光。这体现了 ( )

- A. 秦朝政府重视卜筮之术
- B. 先民对自然规律的探索
- C. 手工业生产的实际需求
- D. 国家推行均田制的努力

3. 汉画像砖是模印或捺印有图像的砖,风格处于绘画与雕塑之间。图 1 是一幅表现劳动人民插秧场景的画像砖拓片。该图 ( )



图 1

- A. 反映了坞堡庄园经济的具体特点
- B. 佐证了古代农业生产技术的成熟
- C. 表现了“以形写神”的绘画风格
- D. 提供了研究汉代经济的史料依据

4. 晋朝葛洪著《肘后备急方》，其“肘后”者，犹言“袖珍”，意为可藏于手肘之后；“备急”者，“预先备办临急可用之要方”。唐朝孙思邈认为，“人命至重，有贵千金”，遂著成《千金方》。两书取名的要义共同反映出，中医药学注重 ( )

- A. 以人为本的价值追求

B. 对药物功用的理论总结

C. 人与自然的有机联系

D. 药方与辨证施治的结合

5. 表 1 呈现的是明代小说中描写商业活动的片段。该表折射出当时 ( )

表 1

作品	内容
《警世通言》	南京国子监监生孙富“徽州新安人氏,家资巨万”,世代在扬州经营盐业
《杜骗新书》	徽州人吴胜理“在苏州府开铺,收买各样色布,揭行生意最大,四方买者极多,每日有几十两银交易”
《石点头》	在扬州,来元(人名)“走到一个典铺里来当银,这典铺是姓程的徽州人所开”

- A. 白银资本催生典当业
- B. 徽商热衷资助文学创作
- C. 地域性商人群体活跃
- D. 货物交易依赖长途贩运

6. 1898 年,甲午进士李家驹赴日本考察学务,认识到体育的重要性。1906 年,他出任京师大学堂总监督。同年,在学堂举办的运动会上,李家驹脱下官袍,参加短跑比赛,轰动一时。他的举动受到开明报章的大力揄扬,带动了 中国学校体育运动的发展。这反映出 ( )

- A. 教育领域的嬗变革新
- B. 欧美体育运动开始传入
- C. 清末新政取得了成功
- D. 新学堂与科举制的对立

7. 一战前后,中国新式农场得到发展。在江苏,张謇创办的通海垦牧公司实行股份制,“废灶兴垦”;在黑龙江,以浙江财阀为背景的农场从俄国购入拖拉机,用于耕作。这些现象说明 ( )

- A. 资本主义经营方式的扩展

B. 北洋政府急于改善财政状况

C. 民族工业在全国均衡发展

D. 实业救国思想被各阶层接受

8. 图 2 是《救国时报》1937 年 5 月 23 日刊登的一幅画作。画中士兵手举抗日联军旗帜,头戴布琼尼军帽(曾是苏联红军战士的标配),与日寇英勇战斗。该画作意在表现 ( )




图 2

- A. 全民族团结抗战局面的形成
- B. 抗日联军后勤装备保障充足
- C. 苏军进入东北支援中国抗战
- D. 中国共产党收复失地的信念

9. 1978 年,香港“船王”包玉刚表示愿意捐 1000 万美元在北京建一座饭店,同时表达了以他父亲名字命名的愿望。邓小平同志果断拍板同意。1985 年,兆龙饭店落成,邓小平同志破例出席开幕典礼。这表明当时中国 ( )

- A. 推行市场经济迫在眉睫
- B. 坚持对外开放毫不动摇
- C. 提出了建立经济特区的设想
- D. 实行“引进来”“走出去”战略

10. 近代以来,中国学者开始关注埃及古文字。受条件所限,他们推断“原始造字之意,六者俱备,原无分于中外也”。1905 年,湖南巡抚端方出国考察宪政时途经埃及,拓印了不少碑文,让国人有了确切的研究材料,图 3 是其中的一幅。由此可知 ( )



图 3 端方题埃及象形文字拓本

- A. 中埃古文字的造字方法相同
- B. 两国有相似的历史文化内涵
- C. 不同文明之间需要理解交流
- D. 清朝官员接受西方政治思想

11. 中世纪前期,西欧农奴的生活十分困苦。一顿上好的饭食“通常由两道饭菜组成,一道是粥状的麦糊,一道是麦糊状的粥”。到 13 世纪,由于饥馑出现的次数大为减少,且饮食中增加了豆类,农奴变得强壮。这一变化缘于 ( )

- A. 城市发展的影响
- B. 社会秩序趋于稳定

C. 美洲物种的传入

D. 封君封臣制度解体

12. 伏尔泰在《路易十四时代》中描写了有关巴士底狱神秘囚犯“铁面人”的逸闻。此人总戴着面具,没人知道他的真实姓名、所犯何罪。该书出版后引起很大的反响,“铁面人”的传闻逐渐在民众中“创造出一个无限专横权力的想象世界”。这 ( )

- A. 有利于出版行业的兴起
- B. 引发了民众攻占巴士底狱
- C. 推动了启蒙运动的产生
- D. 冲击了封建君主专制统治

13. 19 世纪七八十年代,印度人经营的棉纺织工厂由 61 家增至 156 家。民众希望进一步开拓国货市场。1896 年,加尔各答举办了国货博览会。1906 年,提拉克向人民呼吁:“你们的未来掌握在自己手中……从明天起你们就自由了。”这表明印度 ( )

- A. 传统棉纺织业得到迅速发展
- B. 民族解放运动取得初步胜利
- C. 民族资产阶级获得广泛支持
- D. 经济发展推动民族意识增强

14. T-34 坦克曾是苏联的主战坦克,其总设计师科什金力主采用倾斜式前装甲板,使得防护性能大为提高。1940 年 2 月,他带病与团队将样车开到莫斯科参加测试,坦克获批量产。他却因坚持工作导致病情加重而去世。由此可知,科什金的研发活动 ( )

- A. 得益于国家灵活的管理体制
- B. 彰显了苏联世界第一的国力
- C. 体现了科技人员的奉献精神
- D. 改变了国际关系的整体走向

15. 20 世纪 50 年代,美国出版的《兔子婚礼》讲述了白兔和黑兔相爱的童话故事。该书传递出“爱不分肤色”的理念,却在 1958 年遭到南方阿拉巴马州“白人公民委员会”的强烈抗议,被禁止发行。这说明美国 ( )

- A. 违背了尊重人权的原则
- B. 南方仍部分保留奴隶制
- C. 动物保护主义思想盛行
- D. 文学领域恪守陈旧观念

二、非选择题:共 4 题,共 55 分。

16. (16 分)阅读材料,完成下列要求。

**材料一** 蔡襄是北宋著名政治家。他任福州知府时,修复五塘等水利设施,“以溉民田,民以为利”。他知泉州时,晋江县东南有龟湖塘,环塘而居的有林、黄、苏、郑四姓,天旱时常因用水纠纷引起械斗。蔡襄为此制定《龟湖塘规》,规定由四姓分管堤岸。据《晋江县志》记载,自蔡襄制定塘规后至明朝五百年间,粮食增产常二三倍于他乡。乡人称他为“近郭水利之最大者”。

——摘编自蔡金发主编《蔡襄及其家世》等

**材料二** 道光年间,林则徐主政江苏十余载,以治水为要务,足迹遍及全省各地。苏州府、松江府境内的江河淤塞成患,林则徐主持疏浚娄江、白茆河,首创“海口筑坝设闸”之法,外御海潮倒灌,内泄洪涝入海。他主张“以工代赈”,征民夫浚河,既解民饥谨又治水患。林则徐带人在丹阳上下练湖之间挑挖引河,确保漕运畅通。百姓感念“林公过处,水患化甘霖”。

——摘编自杨国桢《林则徐传》等

**材料三** 广东雷州半岛,由于缺乏蓄水工程,雨季常常泛滥,旱季土地龟裂。为解决群众困难,在党的领导下,湛江地方政府决定修建水库和运河。从 1958 年起,湛江先后动员 30 万人,90%是 35 岁以下的青年。施工中除使用少量现代机械外,技术人员还自制空中运土车、牵引车等,大大提高了工作效率。他们建成了鹤地水库,开凿了贯穿雷州半岛的“青年运河”,结束了十年九旱的局面。

——摘编自黄圣《湛江雷州青年运河志》等

- (1)根据材料一、二,分别概括蔡襄和林则徐治水的举措。(6 分)
- (2)根据材料三,概括指出湛江治水的特点。(6 分)
- (3)根据材料一、二、三并结合所学知识,归纳古今治水的共同经验。(4 分)

17. (14 分)阅读材料,完成下列要求。

**材料** 《尚书·禹贡》中“禹别九州”蕴含着“中国一统”的理想建构。唐朝杜佑的《通典·州郡》“以九州为纲”延续了《禹贡》九州的认知。两宋以前,“九州”的中心区域在河洛地区。从元朝开始,南北混一,各民族进一步交往交流交融,突破了《禹贡》九州范围的认知,幽燕地区成为新的中心区域,到清朝前中期中国实现了空前的大一统。

——摘编自李治安《元明清“华夷一统”到“中华一统”的话语转换》等

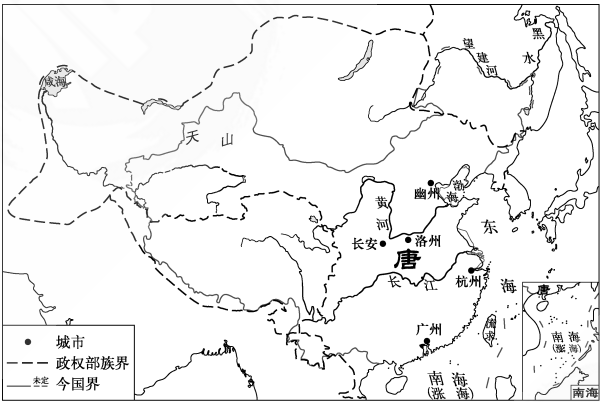


图 4 唐朝形势图(669 年)

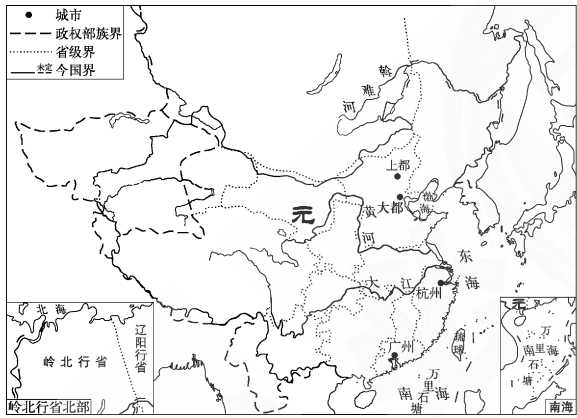


图 5 元朝形势图(1330 年)

根据材料,用斜线“//”分别在答题卡上的图 4、图 5 中标示出当时“九州”的中心区域;(要求:每图限标一处,范围大小适中)结合中国古代史知识,就“九州”的认知写一篇历史短文。(要求:论题明确、史论结合、逻辑严谨、表述成文)

18. (12 分)阅读材料,完成下列要求。

**材料** “下江人”主要指抗日战争时期由上海、江浙等地迁移到重庆等西南大后方的移民群体。1937 年以来,上海、江浙等地相继沦陷,大批民众向西南地区内迁。随着移民的到来,重庆的下江馆子乘时崛起,苏州、常州式的小馒头、汤包成为常见的食物。街头“市招飘展,不书南京,即书上海”“南北方言,溢洋于耳”,本地人的方言也多了些国语味道。下江人穿西装旗袍、涂口红等时髦装扮也受到追捧。重庆因下江人的迁入,在市政、交通等现代化建设方面有了较大发展,逐步形成“小上海”风格。随着本地人与下江人不断接触,他们追求婚姻自由、男女平等,共同投身于抗战和大后方建设。

——摘编自《张恨水说重庆》等

- (1)根据材料,指出“下江人”移民的特点。(5 分)
- (2)根据材料并结合所学知识,说明“下江人”移民重庆的积极作用。(7 分)

19. (13 分)柯布西耶是法国著名建筑师。1923 年,他在

《走向新建筑》一书中提出建筑革命的主张,对 20 世纪建筑影响巨大。阅读材料,完成下列要求。

**材料** 现代的建筑关心住宅,为普通而平常的人关心普通而平常的住宅……在这个革新的时期,建筑的首要任务是提出对价值的修正,并重新修正住宅的组成要素……建筑的历史,在过去的许多世纪里,只在构造上和装饰上缓慢地演变,但是最近的 50 年以来,钢铁和混凝土一路高歌猛进,建造能力有了巨大提高,一些古老的建筑法则为之所抛弃。与过去相比较,我们就会发现那些“风格”对我们来说已经不复存在了,一种属于我们时代的风格已经建立起来,这就是革命。

——(法)柯布西耶《走向新建筑》

- (1)根据材料,柯布西耶建筑革命的主张是革新建筑的价值、▲和▲。(2 分)
- (2)根据材料并结合所学知识,说明柯布西耶提出建筑革命的历史背景。(6 分)
- (3)根据材料并结合所学知识,简析柯布西耶建筑革命主张的影响。(5 分)