

历史

(历史试卷满分 70 分,历史、道德与法治的考试时间共 120 分钟)

一、单项选择(本大题共 15 小题,每小题 2 分,共 30 分)

- 1.[2025 安徽 T1]春秋战国时期,某学派主张“圣人之道,为而不争”。该学派是 ()
A. 儒家 B. 墨家 C. 道家 D. 法家
- 2.[2025 安徽 T2]汉武帝认为部分郡辖域过大,故将一郡分成数郡,如从陇西郡分出天水郡,将酒泉郡一分为三。他这样做的主要目的是 ()
A. 有效管辖西域 B. 加强中央集权 C. 抑制地方豪强 D. 废除封国制度
- 3.[2025 安徽 T3]魏晋南北朝时期,北方游牧民族建立的政权大都经历了汉号立国、礼法治国、郡县理国、经史记国的进程。这反映出当时 ()
A. 文化认同逐渐加深 B. 阶级矛盾趋向缓和 C. 北方陷入长期战乱 D. 藩镇割据局面形成
- 4.[2025 安徽 T4]阅读表 1 可知 ()

表 1 唐诗(节选)

作者	篇名	诗句
王建	《凉州行》	蕃人旧日不耕犁,相学如今种禾黍
李绅	《悯农二首》	谁知盘中餐,粒粒皆辛苦
戴叔伦	《屯田词》	春来耕田遍沙碛,老稚欣欣种禾麦
许浑	《村舍》	燕雁下秋塘,田家自此忙

- A. 水稻产量跃居粮食作物首位 B. 劳动是诗歌创作的重要源泉
C. 唐代咏农诗以歌颂现实为主 D. 文学艺术与市民文化相结合
- 5.[2025 安徽 T5]史载,宋代成都“万井云错,百货川委”,成都平原及其四周地区所产粮食、纺织品、陶瓷、纸张等商品都集散于此,它不但同夔峡诸地贸易,而且有力地支援了汴京及西北市场。这反映了 ()
A. 海外贸易加速西南地区发展 B. 交子使用带动商业繁荣
C. 中央财政主要仰赖成都地区 D. 商品流通密切区域联系
- 6.[2025 安徽 T6]康乾年间,随着清政府对边疆地区的有效管辖,北部地区出现了一批城市,如齐齐哈尔(黑龙江将军驻地)、伊犁(伊犁将军驻地)等,这些城市人烟稠密,货物客商络绎不绝。这说明 ()
A. 商帮经营活动遍布全国 B. 榷场设置促进边境贸易往来
C. 边疆内地管理方式一致 D. 政治安定保障边疆经济发展
- 7.[2025 安徽 T7]19 世纪末,清政府遴选驻外使臣的标准,由科举正途和洋务能力并重向注重西学素养和出洋阅历转变。这表明清政府 ()
A. 改变用人观念应对困局 B. 废除科举制度回应社会诉求
C. 完全成为“洋人的朝廷” D. 推进洋务运动到“求富”阶段

- 8.[2025 安徽 T8]1924 年 8 月,孙中山发表演说:中国受条约的束缚,丧失政治主权,不但不能保护本国工业,反要保护外国工业。据此可知,孙中山强调民族工业发展需要 ()
A. 维护共和制度 B. 推翻清朝统治
C. 反对列强侵略 D. 加强中外交流

- 9.[2025 安徽 T9]美国记者白修德回忆,他和几个国民党士兵在日占区活动被发现,逃到一个村子寻求帮助,但士兵对村民说他们是“八路军”。他感到很惊讶,士兵解释说:“假如知道我们是国民党,他们就不会给我们弄了。”这可以说明 ()
A. 国民党挑起争端破坏抗战 B. 正面战场的抗战成效显著
C. 八路军拥有坚实的群众基础 D. 国民党继续执行不抵抗政策

- 10.[2025 安徽 T10]图 1 是创作于 1956 年的宣传画。该作品旨在 ()
A. 讴歌农业现代化的成功实现
B. 发动广大农民参加土地改革
C. 宣传家庭联产承包责任制的优越性
D. 激发农民投身社会主义建设的热情



图 1 《越走越快》

- 11.[2025 安徽 T11]据统计,1985 年中国城市居民年人均粮食直接消费量为 134 千克左右,而到 1993 年,这一数字下降到了约 97 千克,肉、禽、蛋、水产等食品的消费量则显著提高。这得益于 ()
A. 小康社会全面建成 B. 改革开放不断深入
C. 社会主义市场经济体制建立 D. 国民经济调整任务基本完成
- 12.[2025 安徽 T12]人们在欣赏达·芬奇的画作时发现:他画的植物表现了他的确有植物学方面的才能,他画的风景则表现了他地理学上的敏锐感觉。这说明达·芬奇的艺术创作 ()
A. 受进化论影响 B. 宣扬享乐主义
C. 践行启蒙思想 D. 融入科学探索
- 13.[2025 安徽 T13]18 世纪 60 年代以前,英国每年授予的专利数量有 10 个左右,到 1766 年陡然攀升至 31 个,1792 年跃升到 85 个,1802 年则达到 107 个。这种变化 ()
A. 推动了民族解放斗争 B. 催生了垄断组织
C. 适应了工业发展需要 D. 扩大了贫富差距
- 14.[2025 安徽 T14]1917 年这场自发的群众运动,事先没有一个政党策划领导,它的胜利是由于沙皇制度极端腐朽和衰败造成了一种摧毁这个制度的极大力量。这场运动 ()
A. 推翻了资产阶级临时政府 B. 形成了两个政权并存的局面
C. 建立了无产阶级专政国家 D. 联合了各国工人阶级的力量
- 15.[2025 安徽 T15]20 世纪 70 年代,智利总统阿连德推行维护国家主权的改革,对此,美国总统尼克松表示:“我们必须拯救智利……用 1 亿美元,如果必要的话,或者用更多些钱来搞垮智利的经济。”这表明美国意图对智利 ()
A. 经济威胁干涉内政 B. 扩大援助挽救危机
C. 武装侵略摧毁经济 D. 寻求合作支持独立

二、辨析改错(6 分)

- 16.[2025 安徽 T16]文物承载文明,传承文化。辨别下列文物解说的正误,在该题前的括号内正确的打“√”;错误的打“×”,并加以改正。




图2 利簋及铭文

(1)图2文物是已发现的最早的西周青铜器之一,腹内铭文记述了周文王在牧野伐纣的过程,有非常重要的史料价值。




图3 汉代讲经图

(2)图3文物反映了汉代儒者讲经上课的情形,有助于了解汉代儒学教育的状况。




图4 《汉谟拉比法典》石柱

(3)图4文物刻有迄今已知世界上第一部较为完整的成文法典,从中可以清晰地了解古希腊社会。

- (1)【 】改正: _____
- (2)【 】改正: _____
- (3)【 】改正: _____

三、材料解析(本大题共2小题,第17题12分,第18题10分,共22分)

17.[2025 安徽 T17]阅读材料,完成下列要求。

材料一 新民主主义革命时期,中国共产党人高度重视体育对青年启蒙和教育的作用。1923年创刊的《中国青年》杂志就重视体育方面的宣传。1933年发布的《小学课程与教则草案》,规定了各学年体育课教学的内容与方法。1946年《陕甘宁边区战时教育方案》指出体育课应增加简单的军事训练。此外,《少队体操》《体育游戏教材》等相继出版。这一时期,中国女子大学体育培训班、延安大学体育系等机构的设立,为党的事业培养了大量体育专业人才。

——摘编自陈作松《中国共产党领导下青少年体育工作的百年实践与基本规律》

(1)根据材料一,概括新民主主义革命时期中国共产党开展体育工作的举措。(6分)

材料二 中华人民共和国成立后,每5年都对体育发展作出重要规划。20世纪50年代初,陈镜开打破挺举世界纪录,向世界展示了中国力量,他本人多次受到毛泽东主席的亲切接见和鼓励。改革开放以来,群众体育运动蓬勃发展,竞技体育成就显著。以女排取得五连冠、许海峰为中国夺得第一枚奥运金牌、北京成功举办2008年奥运会等为标志,中国体育人走的是一条体育兴国之路。

——摘编自李龙《中国式现代化体育强国建设的历程与逻辑理路》

(2)根据材料二,简析中华人民共和国成立后体育事业快速发展的原因。(4分)

(3)综合上述材料,谈谈我国体育发展给你的启示。(2分)

18.[2025 安徽 T18]阅读材料,完成下列要求。

材料一 19世纪末20世纪初,后起的资本主义国家与老牌资本主义国家之间的矛盾日益激化,最终形成两大军事集团。在两大军事集团形成以及重新瓜分世界的斗争中,各国都积极扩军备战,展开军备竞赛。虽然1899年和1907年曾召开过两次海牙和平会议,却未做出任何实质性决议。

——摘编自徐蓝主编《世界近现代史(1500—2007)》

(1)根据材料一并结合所学知识,写出两大军事集团的名称,并分析两次和平会议“未做出任何实质性决议”的原因。(6分)

材料二 1944年,中、美、英、苏四国在敦巴顿橡树园召开会议,确认战后普遍性国际组织取名“联合国”,规定安全理事会由美、苏、英、中、法五大国担任常任理事并拥有否决权。但会议未能就大国否决权的应用范围等问题达成一致。1945年2月在雅尔塔会议上,各方作了妥协,在大国否决权问题上形成共识,限制大国行使否决权的范围。

——摘编自王斯德主编《世界通史》

(2)根据材料二并结合所学知识,指出各国围绕否决权问题斗争的实质,说说你对当时各方“妥协”的理解。(4分)

四、活动与探究(12分)

19.[2025 安徽 T19]某班师生开展主题为“人类与河流”的项目学习。以下是学习内容的一部分,请你参与,完成任务。

“人类与河流”大事记(部分)

中国	世界
①远古时期的长江、黄河流域,气候温暖湿润,适宜人类活动。	①古埃及文明是世界上最早的文明之一, <u> B </u> 是孕育古埃及文明的摇篮。
②禹采用疏导的方法,开凿河渠,经过10多年的努力,终于消除水患。	②古代西亚的两河流域是人类最早的文明发祥地之一。
③秦统一后,秦始皇派兵开凿 <u> A </u> ,把长江和珠江两大水系连接起来。	③古代印度文明最早出现于印度河流域。
④隋朝开凿了一条北抵涿郡,南至余杭,贯通南北的大运河。	④19世纪后期,英国的有钱人以乘坐汽船游览泰晤士河为时尚,但岸边工厂排放的污水使河水变得污浊不堪。
⑤1957年,武汉长江大桥建成,连接了长江南北的交通。	⑤罗斯福新政期间,美国政府投资建设田纳西水利工程。

——据统编版义务教育教科书整理

【任务一】梳理史事 完善素材

(1)写出表格中A、B处内容。(2分)

【任务二】制作展板 宣传成果

(2)自大事记中任选一项,从历史的角度作简要介绍。(4分)

【任务三】探究问题 提升认识

(3)综合上述材料并结合所学知识,围绕“人类与河流”,自拟论题,进行论述。(6分。要求:观点正确,史论结合,表述清晰)

卷 4 2025 年安徽省初中学业水平考试

答案及评分标准

一、选择题（本题共 15 小题，每小题 2 分，共 30 分）

题号	1	2	3	4	5	6	7	8	9	10	11	12	13	14	15
答案	C	B	A	B	D	D	A	C	C	D	B	D	C	B	A

二、辨析改错（6 分）

(1)【×】“周文王”改为“周武王”。(2 分)

(2)【√】(2 分)

(3)【×】“古希腊”改为“古巴比伦”。(2 分)

三、材料解析（本大题共 2 小题，第 17 题 12 分，第 18 题 10 分，共 22 分）

17. (1)举措:创办刊物宣传体育;颁布体育教育政策;加强体育课程建设;设立机构培养人才。(6 分)

(2)原因:党和政府的重视;国家体育发展规划的引领;改革开放的促进;体育工作者的努力;体育精神的激励;大型体育赛事的推动。(4 分)

(3)启示:社会主义革命和建设为体育事业发展奠定基础;发展体育事业利国利民;树立健康观念,积极参与体育锻炼。(2 分)

18. (1)名称:三国同盟和三国协约。(2 分)

原因:军备竞赛失控;对战争的残酷性认识不足;帝国主义国家间政治经济发展不平衡,矛盾尖锐;资本主义的侵略本性。(4 分)

(2)实质:防范和限制大国霸权。(2 分)

理解:各国维持合作,促进反法西斯战争胜利;吸取历史教训,实现战后和平;妥善解决分歧也是一种外交智慧。(2 分)

四、活动与探究（12 分）

19. (1)A:灵渠。B:尼罗河。(2 分)

(2)示例 1:隋朝开通大运河

为加强南北交通,巩固隋朝对全国的统治,隋炀帝从 605 年起征发民力开凿了一条贯通南北的大运河。大运河以洛阳为中心,北抵涿郡,南至余杭,全长 2 700 多千米。大运河的开通,加强了南北地区政治、经济和文化交流,这是中华民族留给世界的宝贵遗产。(4 分)

示例 2:美国建设田纳西水利工程

为了应付日益严峻的经济大危机,1933 年罗斯福宣布实施新政,采用国家干预手段,通过投资兴建大量公共设施来扭转经济形势。田纳西水利工程是当时兴办公共工程,推行“以工代赈”的典型,为失业者提供就业机会,刺激了经济的恢复与发展。(4 分)

(3)示例 1:江河治理有利于中华文明赓续与发展

禹治水消除水患,保护了中华文明的早期发展。都江堰的修建,减少洪涝灾害,扩大农业灌溉范围,使成都平原成为“天府之国”,助秦完成统一。开凿灵渠,有助于巩固统一,加强经济文化的交流。大运河的开通,沟通了五大水系,加强了南北经济、社会与文化联系,对中华文明共同体的形成产生了重要影响。

综上,江河治理促进了统一多民族国家的发展,为中华文明赓续与发展提供重要保障。(6 分)

示例 2:人类与河流应该和谐共生

河流为人类文明发展提供了重要的物质基础——水资源,有利于人类生产和生活。人类最早的文明是在适合农业耕作的大河流域产生的。河流是重要的运输通道,便

评分细则

17. (1)任答 3 点即可。

17. (2)任答 4 点,其他答案言之成理亦可。

17. (3)任答 2 点,其他答案言之成理亦可。

18. (1)第二小问,任答 2 点,其他答案言之成理亦可。

18. (2)第一小问答“国家利益之争”亦可;第二小问任答 2 点,其他答案言之成理亦可。

19. (2)一定要将选取的大事写出。简单介绍这一项工程的背景、过程或者内容和意义,写出以上两个方面即可。

19. (3)围绕人类与河流自拟相关论点,得 2 分,注意不能直接誊抄“人类与河流”。论述时不要写错误的史实,写出两个以上史实并紧扣主题论述即可得 4 分。最后加上总结,强调自己所论述的观点。

捷了商品的流通和人类的迁徙,如大运河的开凿,加强了南北交通,巩固了隋朝对全国的统治,有助于文明的传播与发展。然而,近代以来,随着工业发展和城市化的推进,河流污染也日益加剧。

因此,人类在利用和改造河流的活动中,要尊重自然,保护自然,和谐共生。

★全解全析

1. C 解析 本题考查百家争鸣。根据题干“圣人之道,为而不争”并结合所学可知,这属于道家“无为而治”的思想,C符合题意。儒家主张仁爱,墨家主张“兼爱”“非攻”,法家主张以法治国,排除 A、B、D。故选 C。

上分提醒 百家争鸣考查中学生容易忽视的点

孔子的思想当中有恢复周礼,维护西周的礼乐制度,这是他的时代局限性;道家思想中有朴素的辩证法,认为事物有相反的两面,并且这两面可以互相转化。

2. B 解析 本题考查汉武帝加强中央集权的措施。根据题干“部分郡辖域过大,故将一郡分成数郡”并结合所学可知,这是汉武帝削弱地方、加强中央集权的措施之一,B符合题意。西域都护府的设置,起到有效管辖西域的作用,排除 A;题中没有涉及地方豪强势力,排除 C;汉武帝用推恩令解决了封国问题,但题中提及的是郡的问题,排除 D。故选 B。

3. A 解析 本题考查魏晋时期的民族交融。根据题干“北方游牧民族建立的政权大都经历了汉学立国、礼法治国、郡县理国、经史记国”并结合所学可知,这是北方游牧民族主动学习汉族文化的表现,这既体现了民族交融,也是华夏认同加强的体现,A正确。题干中没有提到阶级矛盾缓和,排除 B;题干描述的不是北方战乱的情况,也不是藩镇割据局面,排除 C、D。故选 A。

4. B 解析 本题考查唐诗。

材料分析	蕃人旧日不耕犁,相学如今种禾黍	体现人们学习耕种,生活方式转变
	谁知盘中餐,粒粒皆辛苦	表达珍惜粮食、体谅农民辛劳的情感
	春来耕田遍沙碛,老稚欣欣种禾麦	表达春日老幼劳作时的喜悦之情
	燕雁下秋塘,田家自此忙	展现秋季燕雁南飞时农民忙碌的景象
综合分析	这些都反映了劳动是诗歌创作的重要源泉,B正确	

5. D 解析 本题考查宋代的经济。根据题干“商品都集散于此”“有力地支援了汴京及西北市场”并结合所学可知,宋朝

的商品流通,让区域之间的联系更加密切,D符合题意。题干中没有提到海外贸易,排除 A;题干中也没有提到交子的使用带动商业繁荣,排除 B;成都地区经济繁荣并不代表中央财政仰赖于此,排除 C。故选 D。

6. D 解析 本题考查统一多民族国家的巩固和发展。根据题干描述,清政府对边疆地区的有效管辖,使得这些城市人烟稠密,货物客商络绎不绝,结合所学知识可知,对边疆的有效管辖,有利于政治安定,从而推动经济的发展,D符合题意。题干中既没有提到商帮,也未提到商帮遍布全国,排除 A;榷场指古代中原与边疆民族互市的场所,题中未涉及这一因素对贸易的推动作用,排除 B;清朝因地制宜,边疆和内地的管理方式并不一致,排除 C。故选 D。

7. A 解析 本题考查近代教育的发展。根据题干“由科举正途和洋务能力并重向注重西学素养和出洋阅历转变”并结合所学可知,19世纪末,清政府为应对统治危机,调整用人观念,也间接推动了近代教育的改革和发展,A符合题意。1905年,科举制被废除,不是19世纪末,排除 B;1901年《辛丑条约》的签订,标志着清政府完全成为“洋人的朝廷”,排除 C;洋务运动在19世纪70年代就进入到求富阶段,排除 D。故选 A。

8. C 解析 本题考查革命先行者孙中山。根据题干“受条约的束缚,丧失政治主权”并结合所学可知,近代的中国,在民族不独立、主权不完整的情况下,本国的工业很难得到质的发展,所以,民族工业发展的重要条件是反对列强侵略,C符合题意。题中并未提及维护共和与加强中外交流,排除 A、D;1911年的辛亥革命已推翻清朝的统治,排除 B。故选 C。

9. C 解析 本题考查中国共产党的群众基础。根据题干描述可知,国民党以八路军的身份获取村民的支持,结合所学可知,在抗战中,共产党实行全面抗战路线,有很深厚的群众基础,C符合题意。题干中并没有提到国民党挑起争端破坏抗战,也没有提及国民党实行不抵抗政策,排除 A、D;在抗战过程中,中国共产党发挥着中流砥柱的作用,深入敌后,开辟敌后战场,排除 B。故选 C。

10. D 解析 本题考查社会主义的建设。结合题干时间“1956年”和宣传画的内容并结合所学可知,1956年处于三大改造和“一五”计划期间,人们建设热情高涨,工业建设也取得一定的成就,D符合题意。农业现代化在当时还

没有实现,排除 A;土地改革在 1952 年基本完成,排除 B;家庭联产承包责任制是党 1978 年以来实行的措施,排除 C。故选 D。

11. B 解析 本题考查改革开放。题干描述的是 1985—1993 年食品消费量的变化,结合所学逐项分析:

A. 小康社会全面建成	2021 年全面建成,在 1993 年之后
B. 改革开放不断深入	1978 年以来实施改革开放并逐渐深入,符合题意
C. 社会主义市场经济体制建立	21 世纪初基本建立,在 1993 年之后
D. 国民经济调整任务基本完成	1965 年国民经济调整的任务基本完成,在 1985 年之前

12. D 解析 本题考查文艺复兴。根据题干和所学可知:

材料分析	“他画的植物表现了他 的确有植物学方面的 才能”	画作体现植物学的知 识,具有一定的科学严 谨性
	“他画的风景则表现了他 地理学上的敏锐感觉”	风景画体现他在地理 学上的造诣,画作融入 学科探索
综合分析	达·芬奇的艺术创作融入科学探索,D 正确	

13. C 解析 本题考查工业革命。根据题干可知,从 18 世纪 60 年代以来,英国每年授予的专利数量逐渐增多。结合所学可知,1765 年英国率先发生了工业革命,生产力和生产领域都得到重大的突破。对专利发明的鼓励,适应了工业革命发展的需要,C 符合题意。工业革命使殖民国家加大对殖民地的掠夺,激化矛盾,从而推动民族解放斗争,但题干未体现,排除 A;垄断组织是第二次工业革命的产物,排除 B;贫富差距的扩大材料未体现,排除 D。故选 C。

14. B 解析 本题考查二月革命。根据题干“1917 年”“沙皇制度极端腐朽”并结合所学可知,1917 年 3 月,俄国发生了二月革命,推翻了腐朽的沙皇统治,形成了资产阶级临时政府和苏维埃两个政权并存的局面,B 符合题意。十月革命推翻了资产阶级临时政府,并建立了无产阶级专政国家,排除 A、C;二月革命并没有联合各国工人阶级的力量,排除 D。故选 B。

15. A 解析 本题考查美国的霸权主义。根据题干“用更多些钱来搞垮智利的经济”并结合所学可知,美国以雄厚的资本用经济威胁等手段干涉别国内政,A 符合题意。其他三项表述均不符合题目主旨,排除 B、C、D。故选 A。

16. 解析 本题考查古代中外的文明成就。

(1)根据所学可知,青铜器利簋内部的铭文记述了周武王

在牧野伐纣的过程,具有重要的史料价值。该解说说法错误,改“周文王”为“周武王”。

(2)《汉代讲经图》主要展现了汉代经学教育的场景,它直观呈现了儒家思想在汉代的状况,兼具历史与艺术价值。该解说说法正确。

(3)《汉谟拉比法典》是古巴比伦国王汉谟拉比颁布的法典,也是世界上已知最早的较完整的成文法典。它可以帮助我们了解古巴比伦的社会状况。该解说说法错误,改“古希腊”为“古巴比伦”。

17. 解析 本题考查不同时期的体育事业发展情况。

(1)根据题干内容“1923 年创刊的《中国青年》杂志就重视体育方面的宣传”可以概括为创办刊物宣传体育;根据“1933 年发布的《小学课程与教则草案》”可以概括出通过颁布体育教育政策来开展体育工作;根据“《体育游戏教材》等相继出版”,可得出加强体育课程建设;根据材料中“中国女子大学体育培训班、延安大学体育系等机构的设立”可得出,通过设立机构培养人才。

(2)原因:

材料	对应答案
“每 5 年都对体育发展作出重要规划”	国家体育发展规划的引领
“他本人多次受到毛泽东主席的亲切接见和鼓励”	党和政府的重视
“改革开放以来,群众体育运动蓬勃发展”	改革开放的促进
“陈镜开打破挺举世界纪录”“女排取得五连冠”等	体育工作者的努力
“北京成功举办 2008 年奥运会”	大型体育赛事的推动

(3)从材料和所学中可以得出,体育事业和经济建设或革命时期相关建设相辅相成;当前,我们要积极参与体育锻炼,树立健康向上的体育理念。言之成理即可。

18. 解析 本题考查两次世界大战。

(1)根据题干“19 世纪末 20 世纪初”和所学可知,一战前形成了三国同盟和三国协约两大军事集团。两次海牙会议没有做出任何实质性决议的原因,根据材料可概括出各国积极扩军备战,开展军备竞赛;根据所学内容可写第一次世界大战爆发的原因,包括帝国主义国家间政治经济发展不平衡、资本主义侵略扩张本性等;以及此时世界大战还没有爆发,人们还未完全感受到战争的残酷性。

(2)根据材料中的“限制大国行使否决权的范围”可以得出围绕否决权问题斗争的实质是防范和限制大国霸权。材料描述的是联合国,它的宗旨是维护世界和平,所以要围绕和平、合作来回答。另外妥协在政治制度中、国际舞



台上也可以是一种智慧的体现,它可以让更多的国家建立适合本国国情的制度,稳定政局;同时也可在协商中找到让更多方相对满意的方法。

上分技巧

本题第二问第二小问为半开放性试题,考生可根据题目和自身理解作答。妥协在日常生活中,常用作贬义词,但其实在政治和国际舞台上有时反而是智慧的体现。在不同的时期遇到的问题各不相同,用妥协解决问题的方法也不一样。如建立新制度时需要妥协(美国的三权分立等);和平时期谋求发展,需要协调各方力量,努力建立更合理的经济秩序等。

19. **解析** 本题考查人类与河流的关系以及一些水利工程等。
- (1)根据所学可知,秦始皇派兵开凿灵渠,把长江和珠江两大水系连接起来,既开发了岭南,也巩固了统一,A 是灵渠。埃及的母亲河是尼罗河。注意专业名称一定要将汉字书写正确。
- (2)从题中的表格当中任选一项工程,简单介绍这一项工程的背景、过程或者内容和意义即可。
- (3)开放性题目,言之成理即可。关键是围绕主题,一定要拟出与河流相关的主题,然后再结合所学进行论述。