

历史

(满分 50 分,考试时间 60 分钟)

一、选择题(下列每小题列出的四个选项中,只有一个选项是最符合题目要求的,共 20 小题,20 分)

1. [2025 河南 T1]有考古学家认为,下图中分别用不同线条装饰的两侧陶壶,可能代表了两个缔结同盟的部落。从这一视角看,双连壶独特的设计可能体现了先民对 ()
- A. 自然环境的认知
B. 农业活动的重视
C. 生产工具的创新
D. 共赢精神的表达



郑州大河村遗址出土的彩陶双连壶
(距今约6 000—5 000年)


2. [2025 河南 T2]从下列文物的对比中,可以看出我国古代文字 ()



河南舞阳贾湖遗址出土的刻符龟甲
(距今约9 000—7 500年)



山东邹平丁公龙山文化遗址出土的陶文(距今约4 400—3 800年)




河南安阳殷墟出土的军事刻辞牛骨(距今约3 300—3 000年)

- A. 起源于原始的交流活动
B. 经历了漫长的形成过程
C. 记录了先民的艺术追求
D. 密切了区域间经济联系
3. [2025 河南 T3]战国时期,当诸侯们摒弃出身背景,以人的才能为原则选任官员时,“布衣卿相”“养士”成为当时独特的风景线。材料反映了战国时期 ()
- A. 诸侯争霸导致社会动荡不安
B. 制度改革带来社会风气变化
C. 社会变革引起思想文化活跃
D. 百家争鸣提升士人思想素养
4. [2025 河南 T4]某学者曾说:近世言秦政,率斥其专制。然按实而论,秦人初创中国统一之新局,其所努力,亦均为当时形势所需。材料表明该学者 ()
- A. 认为秦的版图空前绝后
B. 感叹秦的制度泽被后世
C. 批评秦的专制残酷暴虐
D. 强调秦的统一顺应时势
5. [2025 河南 T5]有学者认为,在久乱承平之后,社会秩序的重建需要一个较长的时期,应渐进地实行。隋却急于收到其成效,一味依靠政治强力推进,最终引发了剧烈的政治动荡。该学者强调隋末政治动荡是由于 ()
- A. 滥用酷吏
B. 操之过急的施政
C. 修建运河
D. 三征辽东的行动
6. [2025 河南 T6]某学者写道:宋代在中国传统科学技术的诸多领

域都有了新的突破。下列能够佐证这一观点的是 ()

A. 造纸术的发明
B. 火药的出现
C. 曲辕犁的发明
D. 活字印刷术的发明

7. [2025 河南 T7]下图这部药理学著作以水、草、人等 16 部为纲,部下设类,各类下以“气味”“主治”等为分项。由此可见,作者编写时注重 ()



《本草纲目》书影

- A. 纲目体系的建构
B. 前人经验的总结
C. 疾病预防的研究
D. 临床药方的收集

8. [2025 河南 T8]19 世纪末,全国各地许多爱国知识分子利用诗歌、散文、小说、漫画等多种形式,号召人民起来进行反割台斗争。与这一斗争史事相关的条约是 ()

- A.《南京条约》 B.《北京条约》 C.《马关条约》 D.《辛丑条约》
9. [2025 河南 T9]据统计,1894—1905 年,类似兴中会的海内外革命团体共有 60 多个,这为中国同盟会的成立提供了 ()

- A. 思想基础 B. 组织基础 C. 阶级基础 D. 群众基础
10. [2025 河南 T10]1919—1920 年,全国学生刊物有 400 多种,刊登内容均采用白话文;一些著名的老牌刊物也改用白话文刊登作品。材料表明 ()

- A. 民主科学成为时代的呼声
B. 传统文化滋养了新文学发展
C. 文化出版助力白话文普及
D. 文学革命促进国民思想觉醒

11. [2025 河南 T11]1938 年 5 月,毛泽东指出:抗日战争是全民族的革命战争,它的胜利,离不开战争的政治目的——驱逐日本帝国主义、建立自由平等的新中国。由此可知,抗日战争 ()

- A. 需要得到国际援助
B. 坚持国共两党合作
C. 具有双重历史任务
D. 影响世界历史进程

12. [2025 河南 T12]1970 年 4 月 25 日,《人民日报》《解放军报》联合印发了喜报,文中提到“卫星运行轨道,距地球最近点 439 公里,最远点 2 384 公里……”。喜报内容描述的历史事件是 ()

- A. 中国第一颗氢弹爆炸成功
B. 中国第一颗人造地球卫星发射成功
C. 神舟五号载人飞船成功返回地面
D. 中国人首次进入自己的空间站

13. [2025 河南 T13]“互联网+”为许多传统行业实现创新驱动开辟了新路径。因此,“互联网+”成为 2015 年国内十大流行语之一。这反映出我国 ()

- A. 信息技术赋能行业创新
B. 高等教育得到迅速发展
C. 国防科技有了新的突破
D. 百姓生活日益丰富多彩

14. [2025 河南 T14]古代罗马人制出了一种非常坚固耐用的混凝土,有了它,便能建造出古希腊人所不敢想象的巨型工程。材料强调古罗马建筑的发展得益于 ()

- A. 建筑材料的研制
B. 希腊建筑的传承
C. 建筑艺术的创新
D. 东西方文明互鉴

15. [2025 河南 T15]作为法兰克王国国王,他十分重视传承古典文化。在其推动下,出现了“加洛林文艺复兴”。他是 ()

- A. 伯里克利
B. 亚历山大大帝
C. 查理大帝
D. 查士丁尼一世

16. [2025 河南 T16]列宁指出:18 世纪这些真诚而正直的人,衷心地期望建立一个美好的“理性王国”,实现全人类的自由、幸福和进步。列宁评价的是近代欧洲 ()

- A. 人文主义者
B. 自然科学家
C. 远洋航海家
D. 启蒙思想家

17. [2025 河南 T17]19 世纪 40 年代,一首工人阶级的歌曲唱道:“有位残忍无情的国王,超出了诗人的想象……此无情的国王就是蒸汽机。”面对压迫,工人破坏机器、捣毁厂房以示反抗。材料反映了当时的工人阶级 ()

- A. 以资本主义制度为斗争的矛头
B. 作为独立的政治力量登上了政治舞台
C. 迫切需要革命理论的正确指导
D. 创立了人民实现自身解放的思想体系

18. [2025 河南 T18]1863 年底,林肯向国会提出了一份宣言。其中规定,一切参加战争的南方同胞,只要宣誓忠诚于国家、承认废除奴隶制,都可以得到原谅。林肯提出这一宣言的主要目的是 ()

- A. 维护国家统一
B. 推进西进运动
C. 完善法律制度
D. 促进工业发展

19. [2025 河南 T19]下表列举了第二次世界大战中的一些重要史事。这些史事 ()

时间	事件
1941 年 6 月 22 日	丘吉尔表示坚决支持苏联的卫国战争
1941 年 6 月 24 日	罗斯福宣布,美国愿意援助包括苏联在内的所有抵抗法西斯的国家
1941 年 7 月 3 日	斯大林表示愿意与欧美反对德国法西斯的国家和人民结成统一战线

- A. 遏制了法西斯国家侵略
B. 助力了世界反法西斯同盟的建立
C. 确定了战后的世界格局
D. 扭转了世界反法西斯战争的形势

20. [2025 河南 T20]从 20 世纪中期开始,以法、德和解为基础,欧洲煤钢联营的启动及扩大发展,使欧洲出现了从未有过的较长时期的稳定与和平发展局面。据此,该局面出现的主要原因是 ()

- A. 马歇尔计划的实施
B. 两极格局的正式形成
C. 欧洲一体化的推进
D. 高新技术的持续发展

二、非选择题(共5小题,30分)

21. [2025 河南 T21](6分)阅读下列材料,回答问题。

材料一 河南一带居天下之中,是中国商人、商业、商文化的重要发源地。夏商周时期,中原地区是王朝统治的核心区域,人口汇聚,交通发达,以此为基础,铸就了古代早期中原地区商业的兴盛。

——摘编自王少林《古代中原地区的水陆交通与工商业》

材料二 春秋战国时期,随着商业的发展,中原地区形成了许多著名都会,如濮(今濮阳)等。西汉时期,中原有富冠海内的“天下名都”11座中的7座,如宛(今南阳)等。隋唐时期,洛阳作为丝绸之路的东端起点,外国商旅往来频繁。几千年来,中原地区孕育的兼容并蓄、勤俭内敛、重德尚义、商道济世的商业文化内涵,成为中华商业文化的精髓。

——摘编自程有为《河南简史》

材料三



高铁郑州航空港站



一架卢森堡货航货机停在郑州机场

(1)据材料一,古代早期中原地区商业兴盛的原因有哪些?(3分)

(2)据材料二,概括古代中原地区商业发展的影响。(2分)

(3)综上所述,你认为地处中原的河南应如何助力当前我国商业贸易的发展?(1分)

22. [2025 河南 T22](6分)请任选下面一个主题中的两次会议或两处革命旧址,围绕该主题,写一篇80~120字的小短文。(要求:题目自拟,观点明确;史实正确;条理清晰,语句通顺,表述完整)

主题一 重要会议与国家命运

中国共产党第一次全国代表大会 1921年

八七会议 1927年

遵义会议 1935年

中国共产党第七次全国代表大会 1945年

主题二 红色记忆与民族精神

中国共产党第一次全国代表大会上海会址

井冈山毛泽东旧居

遵义会议会址

革命圣地延安

23. [2025 河南 T23](6分)阅读下列材料,回答问题。

材料一 在中国历史上,唐朝是一个开放的时代。唐王朝不仅以博大的胸怀接纳来自西亚、中亚等地的文化,也以积极的态度输出先进的文明给周边国家。

——摘编自卜宪群《中国通史》

材料二 19世纪40年代以后,中国多次受到外国的军事侵略,因而被加上种种不平等条约的束缚。……所以那时的中国可以说是完全开放的,而这种开放是以丧失作为独立国家所应拥有的主权为代价的。

——摘编自胡绳《从鸦片战争到五四运动》

材料三 从2013年中国首次提出共建“一带一路”倡议以来,中国与各方携手,推动共建“一带一路”落地生根,蓬勃发展,促进共同发展繁荣。

表1 共建“一带一路”境外经贸合作区成就统计表(部分)

时间	涉及国家/个	累计投资/亿美元	上缴东道国税费/亿美元	为当地创造就业岗位/万个
截至2021年底	46	507	66	39.2

表2 共建“一带一路”十年成就统计表(部分)

时间	签署国家/个	签署国际组织/个	文件成果/份	合作项目/个	涵盖领域
截至2023年1月	151	32	200多	3000多	土地投资、科技人文、海洋贸易、数字经济、互联网金融、绿色创新等

——整理自白永秀等《“一带一路”高质量发展:成就、变局与转型》

(1)据材料一和材料二,指出唐朝的开放与近代开放的不同之处。(2分)

(2)据材料三,共建“一带一路”是新时代对外开放的重大举措,概括其发挥的作用。(3分)

(3)综上所述,谈谈你对国家实施对外开放的认识。(1分)

24. [2025 河南 T24](6分)阅读下列材料,回答问题。

材料一 蒸汽用来作为动力由来已久。1705年,纽可门造出蒸汽机,但效率不高,且只能用于矿山抽水。1763年,瓦特开始修理纽可门蒸汽机。经过长期的不懈努力,1785年,瓦特改良的

蒸汽机投入使用,大大提高了生产效率,成为物质生产开始进入机械化时代的标志。

——摘编自吴国盛《科学的历程》

材料二 1831年,法拉第发现电磁感应现象;19世纪40年代,焦耳发现能量守恒和转化定律。在这些理论的基础上,1866年,西门子制成发电机,电力工业和电气设备工业迅速发展起来。电力不仅改造了工业,而且直接进入人们的生活,影响了整个社会。

——摘编自武寅《简明世界历史读本》

材料三 近年来,人工智能作为一种“工具”,在几乎所有经济活动中发挥作用,正在深刻地改变人们的生产生活方式。

——摘编自董志勇《“人工智能+”赋能新质生产力发展》

(1)据材料一和材料二,并结合所学知识,概括蒸汽机改良与发电机发明的相似之处。(3分)

(2)综上所述,从近代科技进步的历程中,你获取了哪些发展人工智能的启示?(2分)

(3)请联系实际,举一个人工智能影响生活的例子。(1分)

25. [2025 河南 T25](6分)阅读下列材料,回答问题。

材料一 1941年8月,美英宣布,要建立“永久的普遍安全制度”。1943年,美、英、苏、中四国正式提出建立一个普遍国际安全组织的建议。1944年,上述四国举行会议,正式建议新组织命名为联合国。1945年10月,《联合国宪章》正式生效,联合国宣告成立。

——摘编自徐蓝《世界近现代史1500—2007》

材料二 《联合国宪章》规定的联合国宗旨第一项是:“维持国际和平及安全;并为此目的:采取有效集体办法,以防止且消除对于和平之威胁,制止侵略行为或其他和平之破坏;并以和平方法且依正义及国际法之原则,调整或解决足以破坏和平之国际争端或情势。”

——摘编自张建华《世界现代史(1900—2000)》

(1)据材料一并结合所学知识,说明联合国成立的原因,概括其成立过程中体现的精神。(3分)

(2)据材料二,指出联合国维持国际和平及安全的方法。(2分)

(3)当今世界面临着诸多的全球挑战。就如何应对挑战,谈谈你的想法。(1分)

卷 7 河南省 2025 年初中学业水平考试

答案及评分标准

一、选择题（共 20 小题，20 分）

题号	1	2	3	4	5	6	7	8	9	10	11	12	13	14	15	16	17	18	19	20
答案	D	B	B	D	B	D	A	C	B	C	C	B	A	A	C	D	C	A	B	C

二、非选择题（共 5 小题，30 分）

21. (1)地理位置优越;统治中心的政治优势;人口聚集;交通便利。(3 分,答出其中任意三点即可,符合题意的其他答案也可)
- (2)促进了古代城市发展;加强了中外交流;丰富了中华商业文化的内涵。(2 分,答出其中任意两点即可,符合题意的其他答案也可)
- (3)发挥国际、国内交通枢纽作用;提供河南特色优质商品;搭建商品交易平台。(1 分,答出其中任意一点即可,其他言之成理的答案也可)
22. 【示例一】(主题一:重要会议与国家命运)
- 观点:重要会议决定国家命运
- 1921 年中共一大召开,标志着中国共产党的诞生,是中国历史上开天辟地的大事,中国革命的面貌从此焕然一新。1945 年中共七大召开,明确提出要建立一个新民主主义的中国,为中国共产党和中国人民指明了战后的奋斗方向。这两次会议,对中国的发展走向产生了重大影响,说明重要会议决定国家命运。(6 分)
- 【示例二】(主题二:红色记忆与民族精神)
- 观点:红色记忆承载民族精神
- 在第五次反“围剿”失败和湘江战役遭受重大损失后,党中央在遵义召开会议,肯定了毛泽东的正确军事主张,纠正了“左”的错误。革命圣地延安是抗日战争时期敌后战场的战略总后方和指挥中枢。这两地都承载了中共党史上重要的红色记忆,锻造了遵义会议精神和延安精神,是我们的宝贵精神财富。(6 分)
23. (1)唐朝:主动的、自信的开放。(1 分)近代:被迫的、丧失部分主权的开放。(1 分)
- (2)密切与沿线国家、国际组织的合作;带动沿线国家的发展;推动我国对外开放的进程;助力经济全球化的发展。(3 分,答出其中任意三点即可,符合题意的其他答案也可)
- (3)国家实力是主动、自信开放的重要基础;对外开放要善于汲取历史智慧。(1 分,答出其中任意一点即可,其他言之成理的答案也可)
24. (1)源于现实需要;经过了一段时期的技术积累或理论创新;杰出人物的贡献;推动了人类社会的巨大进步。(3 分,答出其中任意三点即可,符合题意的其他答案也可)
- (2)重视经验积累;加强科学理论研究;注重人才培养。(2 分,答出其中任意两点即可,其他言之成理的答案也可)
- (3)示例:通过人工智能应用,协助设计暑期研学计划。(1 分,其他言之成理的答案也可)
25. (1)原因:两次世界大战严重威胁了世界的和平与安全;世界反法西斯战争中,联合的经历为联合国成立奠定了基础;美、英、苏、中等大国的积极推动。(2 分,答出其中任意两点即可,符合题意的其他答案也可)
- 精神:大国协商;大国合作;大国担当。(1 分,答出其中任意一点即可,符合题意的其他答案也可)
- (2)有效集体;和平解决争端;依据正义;遵循国际法。(2 分,答出其中任意两点即可)
- (3)构建人类命运共同体应对全球挑战。(1 分,其他言之成理的答案也可)

评分细则

21. 第(2)问,需要用概括性语言整理答案,不能照抄原文,任意回答两点即可,2 分。第(3)问,开放性问题,答出其中任意一点即可,需要言之成理且符合题意。
22. 学生自主选择主题,结合材料史实,围绕主题,提炼观点,写一篇小短文。要求题目自拟、观点明确、史实正确,史论结合;语言条理清晰、逻辑思维缜密。分为三个等级赋分。等级建议:

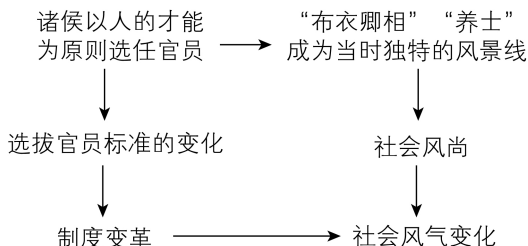
一等 (6~5 分)	① 题目恰当,观点明确; ② 史实运用正确; ③ 条理清晰,语句通顺,表述完整
二等 (4~2 分)	① 题目恰当,观点较为明确; ② 史实运用基本正确; ③ 条理较为清晰,语句较为通顺,表述较为完整
三等 (1~0 分)	① 立场不正确或题目不恰当,观点不明确; ② 史实运用不正确; ③ 条理不清晰,语句不通顺,表述不完整

★全解全析

1. **D** **解析** 本题考查河南史前史。用不同线条装饰的两侧陶壶可能代表了两个缔结同盟的部落,从这一视角看,该双连壶是两个部落为达成一定利益或目标而结盟的见证物,体现了先民对共赢精神的表达,D 正确。A、B 均未体现,排除;陶壶属于日用工具,不是生产工具,排除 C。故选 D。

2. **B** **解析** 本题考查我国古代文字的发展演变历程。据图片中文物信息可知,我国文字的发展不是一蹴而就的,而是经过了上千年的、逐步发展完善的过程,B 正确;“交换”在题中没有体现,A 排除;材料中的龟甲和牛骨不属于艺术品,C 排除;材料没有体现三处遗址之间有区域间经济交流,D 不符合题意,排除。故选 B。

3. **B** **解析** 本题考查战国时期的社会变革。由以下示意图可知,制度变革影响了社会风气,B 正确。社会动荡在材料中没有体现,A 排除;思想文化的活跃在材料中没有提及,C 排除;材料没有体现士人思想素养的提升,D 排除。故选 B。



4. **D** **解析** 本题考查秦的统一。材料大意:近些年来,大家在议论秦朝政治制度的时候,都斥责它的专制。但其实,秦朝初创中国统一的新局面,其所做的努力,也是为了适应当时的形势。这表明该学者强调秦的统一顺应时势,D 符合题意。材料中没有提及秦朝的版图大小,A 排除;材料未强调秦朝的制度对后世的影响,B 排除;C 不是该学者强调的内容,不符合题意。故选 D。

上分总结

秦的统一

(1)统一条件:①战国时期,社会动荡,人民希望结束战乱,过上安定生活;②秦经过商鞅变法,经济、军事实力超过东方六国,具备统一的实力;③嬴政个人的雄才大略。

(2)统一措施:①创立以皇帝为中心的中央集权制度,皇帝之下,设三公九卿;②地方上,实行郡县制;③统一文字、货币、度量衡;④统一车轨和道路宽度,形成以咸阳为中心的交通网;⑤加强边疆建设,开凿灵渠,沟通湘江和漓江。

(3)统一意义:①结束了春秋战国以来长期征战混乱的局面,是历史发展的必然结果;②统一后的秦朝建立起我国历史上第一个统一多民族的封建国家。

5. **B** **解析** 本题考查隋朝的灭亡。该学者的观点是隋朝急于求成,一味依靠政治强力推进社会秩序重建,最终引发了政治动荡,B 正确。A、C、D 都是隋朝操之过急施政的具体措施,但这些具体措施在材料中都没有体现,排除。故选 B。

6. **D** **解析** 本题考查宋代科技发展。西汉时期,人们已经懂得了造纸的基本方法,东汉蔡伦改进了造纸术,A 排除;唐朝时已经发明了火药,B 排除;唐朝时发明了曲辕犁,C 排除;北宋毕昇发明了活字印刷术,D 正确。故选 D。

7. **A** **解析** 本题考查明代科技著作。材料体现《本草纲目》作者在编写时注重纲目体系的构建,这样的编写结构更加清晰,分类明了,A 正确;B、C、D 在材料中没有体现,排除。故选 A。

8. **C** **解析** 本题考查《马关条约》。材料关键信息为“19 世纪末”“反割台斗争”,依据所学可知,1895 年中日《马关条约》规定,清政府割辽东半岛、台湾全岛及所有附属各岛屿、澎湖列岛给日本。清政府割让台湾后,台湾军民对日本的占领进行了顽强抵抗。故选 C。

上分提醒

历史上台湾两次被侵占

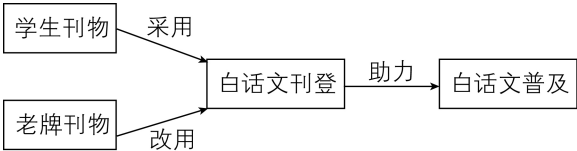
(1)明朝末期,荷兰殖民者趁明朝国势衰败之机,出兵侵占了我国宝岛台湾,在台湾实行殖民统治。清初,在福建沿海坚持抗清的郑成功,决心从荷兰殖民者手中收复台湾。1662 年 2 月,郑成功发动总攻,荷兰殖民长官被迫投降。至此,被荷兰侵略者占据了 38 年的台湾,重新回到祖国的怀抱。

(2)1895 年,中日《马关条约》规定,清政府割辽东半岛、台湾全岛及所有附属各岛屿、澎湖列岛给日本。二战期间,《开罗宣言》明确规定:日本所窃取的中国领土,例如东北地区、台湾及其附属岛屿、澎湖群岛等,归还中国。1945 年抗日战争胜利后,台湾回到祖国怀抱。

(3)1949 年国民党退往台湾后,海峡两岸陷入长期政治对立的特殊状态,但中国的主权和领土从未分割也决不允许分割,台湾是中国领土的一部分的地位从未改变也决不允许改变。

9. **B** **解析** 本题考查资产阶级民主革命。依据所学可知,兴中会属于资产阶级革命团体,中国同盟会正是将这些资产阶级革命团体组织在一起形成的资产阶级革命政党,所以这些团体为同盟会成立提供了组织基础,B 正确。同盟会成立的思想基础是三民主义,A 排除;题干材料强调的是兴中会这些“革命团体”,没有强调兴中会的阶级性质,也没有体现群众数量,C、D 排除。故选 B。

10. C 解析 本题考查新文化运动。



故选 C。

11. C 解析 本题考查抗日战争。依据材料可知毛泽东这段话包含两层含义(如下表),说明抗日战争具有民族、民主双重性质。故选 C。

题干材料		材料解读
战争政治目的	驱逐日本帝国主义	反对帝国主义侵略,具有民族独立性质
	建立自由平等的新中国	具有民主性质

12. B 解析 本题考查新中国科技成就。依据所学可知,1970 年,我国第一颗人造地球卫星——东方红一号发射成功,B 正确。A 项发生在 1967 年,C 项发生在 2003 年,D 项发生在 2021 年,均排除。故选 B。

13. A 解析 本题考查信息技术的发展。“互联网+”为传统行业实现创新驱动开辟了新路径,这说明信息技术赋能行业创新,A 符合题意;B、C、D 均不符合题意,排除。故选 A。

14. A 解析 本题考查古罗马文明。混凝土是古代罗马人制成的建筑材料,材料说明古罗马的建筑发展得益于新型建筑材料的研制,A 正确。B、C、D 在材料中没有体现,排除。故选 A。

15. C 解析 本题考查法兰克王国。依据所学可知,8 世纪,查理成为法兰克王国国王,他推动了当时法兰克王国文化的恢复和发展,出现了“加洛林文艺复兴”,C 正确。伯里克利是雅典城邦的执政官,亚历山大大帝是亚历山大帝国的建立者,查士丁尼一世是东罗马帝国皇帝,排除 A、B、D。故选 C。

16. D 解析 本题考查启蒙运动。依据所学可知,启蒙运动开展的时间是 17—18 世纪。依据所学可知,18 世纪法国出现了一批启蒙思想家,他们宣传自由、平等和民主,反对专制,提倡用理性之光驱散愚昧的黑暗。故选 D。

17. C 解析 本题考查马克思主义诞生的相关知识。题干材料中时间为 19 世纪 40 年代,这一时期欧洲一些主要的资本主义国家已经完成了第一次工业革命。歌曲内容反映了随着工业革命的发展,工人阶级的生活状况十分恶劣,他们开始反抗。但这一时期的斗争只限于破坏机器、捣毁厂房,他们并不明白现实为什么会这样,今后该怎么办,所以迫切需要革命理论的正确指导,C 符合题意。在《共产党宣言》出现后,工人阶级才有了同资本主义制度作斗争的目标,A 排除;材料中的工人举动没有政治目标,只是单

纯的破坏性行为,到欧洲三大工人运动出现,工人阶级才开始作为独立的政治力量登上历史舞台,B 排除;马克思主义第一次创立了人民实现自身解放的思想体系,排除 D。故选 C。

18. A 解析 本题考查美国内战。根据“一切参加战争的南方同胞,只要宣誓忠诚于国家、承认废除奴隶制,都可以得到原谅”并结合所学可知,美国内战的爆发主要是由于南北方两种制度的矛盾,冲突的焦点在于奴隶制的存废问题。林肯的这份宣言条件有二:忠诚于国家和承认废除奴隶制,这两点综合到一起的目的就是坚决反对南北分裂,结束战争,维护国家统一。故选 A。

上分拓展

美国内战

美国内战中扭转了北方军队在战场上被动局面的是《宅地法》和《解放黑人奴隶宣言》。美国内战实质上是美国历史上第二次资产阶级革命。经过这场战争,美国维护了国家统一,废除了奴隶制,清除了资本主义发展的最大障碍,为以后经济的迅速发展创造了条件。

19. B 解析 本题考查第二次世界大战。据题干可知,英、美支持苏联抵抗德国法西斯,苏联愿意同英、美在内的反法西斯国家建立统一战线。依据所学可知,1942 年 1 月 1 日,英、美、苏、中等 26 个国家的代表在华盛顿举行会议,签署了《联合国宣言》,标志着世界反法西斯同盟的正式形成,B 正确。“遏制了”说法绝对,反法西斯国家相互支援、协同作战,有利于遏制法西斯国家侵略,A 排除;1945 年召开的雅尔塔会议确定了战后世界格局,C 错误;世界反法西斯同盟正式形成,逐渐扭转了战争的形势,但材料中的三件事发生在这之前,D 排除。故选 B。

20. C 解析 本题考查欧洲的联合。依据所学可知,20 世纪 50 年代,西欧各国工业生产已经基本恢复到甚至超过了战前水平,随着经济的发展,西欧国家之间的联系日益密切,逐渐走上联合自强以提高国际地位的道路。法、德和解,欧洲煤钢联营出现,欧洲出现了长期的稳定和平局面,这主要是因为欧洲一体化的推进,C 正确。A、D 是战后西欧经济恢复发展的原因,但不是欧洲稳定和平的主要原因,排除;两极格局正式形成是推动欧洲联合的国际因素,但不是欧洲稳定和平的主要原因,排除 B。故选 C。

21. 解析 (1)本问考查古代早期中原地区商业兴盛的原因。依据材料一,任意从三个角度回答即可。

(2)本问要求概括古代中原地区商业发展的影响。

材料信息	材料解读
“春秋战国时期,随着商业的发展,中原地区形成了许多著名都会” “西汉时期,中原有富冠海内的‘天下名都’11 座中的 7 座”	促进了古代城市发展

续表

材料信息	材料解读
“隋唐时期,洛阳作为丝绸之路的东端起点,外国商旅往来频繁”	加强了中外交流
“几千年来,中原地区孕育的兼容并蓄、勤俭内敛、重德尚义、商道济世的商业文化内涵,成为中华商业文化的精髓”	丰富了中华商业文化的内涵

(3)本问属于开放性问题,言之成理即可。

22. 解析 本题考查新民主主义革命时期中国共产党的奋斗历程。开放性问题,符合评分细则且言之有理即可。

23. 解析 (1)本问考查唐朝的开放与近代开放的不同之处。依据材料一“唐王朝不仅以博大的胸怀接纳来自西亚、中亚等地的文化,也以积极的态度输出先进的文明给周边国家”可知,唐朝的开放,是主动、自信的开放;依据材料二“这种开放是以丧失作为独立国家所应拥有的主权为代价的”可知,近代中国的开放是被动的、丧失部分主权的开放。

(2)本问考查共建“一带一路”的作用。依据材料可知,“一带一路”涉及的国家和国际组织随着时间的发展越来越多,说明“一带一路”密切了与相关国家和国际组织的合作;根据累计投资额、上缴东道国税费、为当地创造就业岗位数据可知,共建“一带一路”带动了沿线国家的经济发展;合作项目多、涵盖领域广,说明共建“一带一路”推动我国对外开放的进程,助力经济全球化的发展。

(3)本问属于开放性问题,言之有理即可。

24. 解析 (1)本问考查蒸汽机改良与发电机发明的相似之

处。依据材料可知,蒸汽机最早用途有限、效率低,改良后,立即投入生产,并且提高了生产效率;发电机是在电学理论发展基础上出现的,发明后快速投入生产生活中,所以两者的发明(改良)都源于现实需要,都经过了一段时期的技术积累或理论创新,投入使用后都推动了人类社会的巨大进步。同时,蒸汽机改良和发电机发明过程中,杰出人物起到了重大的推动作用。

(2)本问考查人工智能发展的启示。依据材料一、二、三可得出:要重视经验积累;加强科学理论研究;注重人才的培养;等等。

(3)本问属于开放性问题,言之有理即可。

25. 解析 (1)本问考查联合国成立的原因及其成立过程中体现的精神。依据所学知识,联合国成立是因为两次世界大战严重威胁了世界的和平与安全;在世界反法西斯战争中,各国联合的经历为联合国成立奠定了基础;同时美、英、苏、中等大国积极推动成立联合国。在联合国建立过程中,美、英、苏、中等大国发挥了关键作用,体现了大国协商、大国合作、大国担当的精神。

(2)本问考查联合国维持国际和平及安全的方法。

材料信息	材料解读
“采取有效集体办法,以防止且消除对于和平之威胁,制止侵略行为或其他和平之破坏”	有效集体
“以和平方法且依正义及国际法之原则”	和平解决争端;依据正义;遵循国际法

(3)本问属于开放性问题,言之成理即可。